

Rodica Gavriș-Pascu
Ioana Camelia Iovănaș
Bianca Sabou
Marinela Scripcariu



Vacanța colorată

Caiet de activități distractive
(și un pic și instructive)

Clasa a II-a



Cuprins

Peter Pan	4
Firul poveștii.....	6
Pe corabie	8
Se caută marinari	10
În Țara Viselor	12

Apolodor	14
Expediția la Polul Sud	16
Sticla plutitoare.....	18
Profesorul Alfandor	20
Concertul de la circ	22

Vacanța lui Nor	24
În casa bunicilor	26
Nor și bunicul	28
Bunica învinge zmeii	30
Întâlnirea cu Skai	32
Cu Skai pe ulițele satului	33

Dragonul tatălui meu	34
Insula Mandarină.....	35
Insula Sălbatică.....	36
Creaturi reale și imaginare ...	38
Despre dragoni.....	40
Popcorn și film.....	42
La cinema	43

Olimpiada campionilor	44
------------------------------------	-----------

Proba 1	45
Proba 2	46
Proba 3	46
Proba 4	47
Proba 5	47
Proba 6	48



Bună!
Eu sunt Cimbrîșor
și iubesc vacanța de
vară, pentru că pot
citi multe povești
frumoase și mă pot
distra cu prietenii.
Te invit alături
de mine!




Peter Pan

Să facem cunoștință




Bună!
Dă-mi voie să mă prezint:
eu sunt Peter Pan și te voi
însoți în paginile următoare.
Tu cine ești?



Aceasta
este cartea
despre
Peter Pan.
Autorul ei
este J.M.
Barrie.

Filmul
prezintă
aventura
pe insula
fermecată
Neverland.



1 Citește textul. Subliniază numele personajelor, apoi scrie-le pe balon.

Din când în când, seara, Peter Pan zbura pe balconul unei case unde locuiau trei copii: o fetiță pe nume Wendy și doi băieți, John și Michael. Zbura în odaie și se ascundea sub patul unuia dintre frații, ca să asculte poveștile pe care le spunea Wendy.

Într-o noapte, Peter vru să-și răsplătească prietenii:

— V-ar plăcea să zburați? îi întrebă el.

Copiii primiră cu bucurie, însă cum să zboare? Noroc că acolo era și Clopoțel, o zână mică ce presăra praf magic pe capul copiilor și... minune! Toți trei se înălțară în aer și ieșiră pe fereastră împreună cu Peter.

— Unde mergem?

— Pe insula din Țara Viselor.

2 Marchează, în text, alineatele cu o bulină galbenă și notează pe năclă numărul acestora.



Bobul de logică



3 Găsește regula și completează căsuța liberă.

1	6
3	2

4	2
4	3

1	3
2	2

1	1
3	5

4 Zâna Clopoțel presară praf magic, astfel încât suma numerelor de pe traseu să coincidă cu numărul înscris pe barcă. Colorează cele patru trasee.

	9		7	
7		6		4
	7		8	
9		8		9
	5		6	
4		5		3
	6		7	

	9		7	
4		8		4
	9		9	
5		4		5
	8		4	
7		6		8
	3		9	

	9		3	
7		4		9
	6		3	
7		9		6
	5		5	
8		5		3
	6		7	

	6		5	
5		6		8
	7		4	
3		2		5
	6		6	
4		7		8
	6		9	

Firul poveștii

- 1 Recitește textul de la pagina 4 și ordonează logic imaginile și propozițiile. Notează cu același număr fiecare imagine și propoziția corespunzătoare.



Zâna Clopoțel presară praf magic peste copii.



Seara, Peter zbura pe balconul unei case să asculte o poveste.



Cei trei copii ascultau povești în fiecare seară.



Copiii au zburat împreună cu Peter Pan spre Țara Viselor.

- 2 În drumul spre insulă, Peter Pan a ajuns într-o pădure. Încercuiește semnele de punctuație corecte și completează cu **n** sau **m**.

Înainte de **p** și **b**, scriem mereu **m**.



Cerul este su__bru ? ! . În scurt ti__p vine furtu__a ? ! . Copiii nu vor să înnopteze pe insula î__pădurită ? ! . Buuum ? ! . Ce să fie ? ! . Copiii s-au u__plut de spaimă ? ! . O fi vreo stafie ? ! . Sau poate u__bra unui mo__stru ? ! . Fugi de-aici ? ! . E doar Paco bo__bănind ? ! . Papagalul acesta are un talent înnăscut să u__ble după __ăzbătii ? ! .


Bobul de logică



3 Găsește regula și completează numerele care lipsesc.

$\begin{matrix} 6 & 7 \\ 49 \\ 7 \end{matrix}$	$\begin{matrix} 4 & 3 \\ 21 \\ 9 \end{matrix}$	$\begin{matrix} 5 & 7 \\ 38 \\ 3 \end{matrix}$	$\begin{matrix} 2 & 8 \\ 20 \\ 4 \end{matrix}$	$\begin{matrix} 4 & 9 \\ 41 \\ 5 \end{matrix}$	$\begin{matrix} 8 & 5 \\ \bigcirc \\ 9 \end{matrix}$	$\begin{matrix} 8 & 8 \\ \bigcirc \\ 8 \end{matrix}$
--	--	--	--	--	--	--

4 În pădure trăiește un monstruleț năstrușnic, Bicefalus. El îi pune la încercare pe copii. Ajută-i să calculeze corect, pentru a avea vise plăcute și visuri împlinite.



5 Calculează și află:

a. câți nasturi au 6 monștri;

b. câți ochi au 6 monștri;

c. câte degete are monstrul Bicefalus la mâini;

d. câte nasuri au 6 monștri;

e. câte picioare au 4 monștri;

f. câți ochi au 3 monștri;

g. câte brațe au 8 monștri;

h. câți nasturi au 10 monștri.