



TĂRÂMUL PETRECERII

Câte sunt de fiecare? Numără, apoi scrie în căsuțele corespunzătoare.

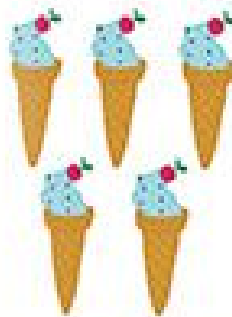


	<input type="text"/>		<input type="text"/>		<input type="text"/>		<input type="text"/>		<input type="text"/>
--	----------------------	--	----------------------	--	----------------------	--	----------------------	--	----------------------




LA CUMPĂRĂTURI


Numără elementele din casete, apoi încercuiește cifra corectă.




9 5 7



8 6 3



1 2 5



4 7 8

ORA DE DESEN

Colorează numărul de obiecte indicat în cerceule.



5



4



3



2



7



5



3




1



10



8




6



4

ANIMALE DE COMPANIE


Numără peștișorii din casete, apoi încercuiește numărul corect.



10 8 5



3 7 10



12 5 8



10 14 11