

# TESTE PENTRU EVALUAREA NAȚIONALĂ

Mirela Mihăescu • Ștefan Pacearcă  
Anița Dulman • Crenguța Alexe • Otilia Brebenel

MATEMATICĂ ȘI EXPLORAREA MEDIULUI – clasa a II-a



Hai și tu pe [scoalaintuitext.ro](http://scoalaintuitext.ro)!

Editura INTUITEXT

 **intuitext**  
www.intuitext.ro



Numele și prenumele tău

Two horizontal lines for writing the name and surname.



Școala

Two horizontal lines for writing the school name.



Clasa a II-a...

Two horizontal lines for writing the class level.



Localitatea

Two horizontal lines for writing the locality.



Județul/sectorul

Two horizontal lines for writing the county or sector.




Băiat

A blue square checkbox for the 'Boy' option.



Fată

A red square checkbox for the 'Girl' option.














# CUPRINS

Fieți! Am un secret  
pentru tine!  
Eu sunt Croșin și vreau  
să mă ajuți să dezlegăm  
misterele din

[www.acolaiamulttext.ro/](http://www.acolaiamulttext.ro/)



 1	Testul 1 .....	5
 2	Testul 2 .....	9
 3	Testul 3 .....	13
 4	Testul 4 .....	17
 5	Testul 5 .....	21
 6	Testul 6 .....	25
 7	Testul 7 .....	29
 8	Testul 8 .....	33
 9	Testul 9 .....	37
 10	Testul 10 .....	41
 11	Testul 11 .....	45
	Rezolvări teste .....	49

## TESTUL 1



Elevii clasei a doua au mers la magazinul de instrumente muzicale împreună cu profesorul de muzică. Ei vor să achiziționeze instrumente muzicale pentru orchestra școlii.



460 lei



525 lei



118 lei



645 lei

1 Care este ordinea crescătoare a instrumentelor, în funcție de prețul lor?  
**Încercuiește litera corespunzătoare răspunsului corect.**

- a) nai, flaut, tobă, vioară
- b) vioară, nai, tobă, flaut
- c) flaut, nai, vioară, tobă
- d) flaut, nai, tobă, vioară

2 Ce instrument muzical poate cumpăra Vlad dacă are bancnota din imagine?  
**Încercuiește litera corespunzătoare răspunsului corect.**

- a) nai
- b) tobă
- c) flaut
- d) vioară



3 Care dintre operațiile de mai jos trebuie efectuată pentru a afla cât costă împreună o vioară și un flaut?  
**Încercuiește litera corespunzătoare răspunsului corect.**

- a)  $645 - 118$
- b)  $525 + 118$
- c)  $645 + 118$
- d)  $460 + 118$



- 4) Bunicii i-au dat Ioanei 500 lei. De câți lei mai are nevoie fetița pentru a cumpăra toba?

**Încercuiește litera corespunzătoare răspunsului corect.**

- a) 125 lei
- b) 25 lei
- c) 100 lei
- d) 525 lei

- 5) Care este corpul geometric care are aceeași formă ca și tuburile naiului?


**Încercuiește litera corespunzătoare răspunsului corect.**

- a) cub
- b) con
- c) cuboid
- d) cilindru



- 6) Pe raftul magazinului, instrumentele sunt așezate ca în imaginea de mai jos.

**Observă modelul și completează propoziția de sub imagine.**

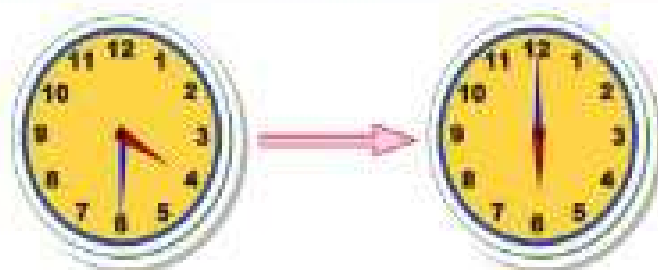


Următorul instrument în șir este \_\_\_\_\_.

- 7) Cât timp repetă într-o zi copiii, dacă se întâlnesc la ora 16 : 30 și pleacă acasă la ora 18 : 00?

**Încercuiește litera corespunzătoare răspunsului corect.**

- a) 1 oră și 30 minute
- b) 2 ore și 30 minute
- c) 30 minute
- d) 3 ore și 30 minute






8. Împreună cu profesorul de muzică, elevii au stabilit că se vor întâlni pentru repetiții de 3 ori pe săptămână: luni, miercuri și vineri. Observă calendarul și descoperă de câte ori se vor întâlni copiii în luna mai.

**Încercuiește litera corespunzătoare răspunsului corect.**

- a) de 12 ori
- b) de 13 ori
- c) de 4 ori
- d) de 8 ori



9. Observă corpurile din imagini și alege-le doar pe cele care nu lasă curentul să treacă prin ele.

**Încercuiește litera corespunzătoare răspunsului corect.**



- a) 1, 4, 6
- b) 2, 3, 5
- c) 1, 4, 5
- d) 2, 3, 4

10. Observă sumele de bani pe care le are fiecare dintre cei 4 copii. Cine poate să cumpere o vioară?

**Încercuiește litera corespunzătoare răspunsului corect.**

Delia	
Matei	
Magda	
Patrick	

- a) Delia
- b) Matei
- c) Magda
- d) Patrick

