



Testul nr. 2

Încercuiește răspunsul corect!


1. În desenul alăturat apar:

- a) 5 fluturi și 12 albine
- b) 6 fluturi și 11 albine
- c) 7 fluturi și 13 albine
- d) 6 fluturi și 14 albine





2. În careu sunt:

- a) 8 flori și 8 frunze
- b) 9 flori și 7 frunze
- c) 8 flori și 9 frunze
- d) 7 flori și 9 frunze



3. Clovnul jonglează cu:

- a) 5 bile
- b) 6 bile
- c) 7 bile
- d) 9 bile




4. Animalele din desenul alăturat au împreună:

- a) 14 picioare
- b) 12 picioare
- c) 10 picioare
- d) 6 picioare

5. Cifra folosită cel mai des pentru scrierea numerelor de mai jos este:

- a) 4
- b) 8
- c) 2
- d) 1


6. Mama i-a dat astăzi lui Ionuț



mânca . Dacă marți va mânca ultimul măr, atunci Ionuț a primit merele:



- a) luni
- b) duminică
- c) sâmbătă
- d) vineri

7. Figura care urmează este:



- a) 
- b) 
- c) 
- d) 

8. În fotografie nu apare:



9. Adunând cel mai mare număr impar cu cel mai mic număr par din șirul 13, 20, 1, 2, 16, 17, se obține:

a) 10

b) 19

c) 18

d) 17




Timp de lucru: 30 de minute






Testul nr. 3

Încercuiește răspunsul corect!

1. Umbra corectă pentru vacuță este:




2. În careul alăturat sunt scrise pe verticală sau pe orizontală denumirile următoarelor fructe:




| | | | | |
|---|---|---|---|---|
| E | P | M | Ă | C |
| O | R | Ă | R | A |
| N | U | R | E | I |
| R | N | U | S | S |
| P | A | R | A | E |


3. Ca să fii sănătos, în fiecare zi trebuie să mănânci:



c)



b)



d)



4. La noi în țară, anul are:

a) patru anotimpuri

b) trei anotimpuri

c) două anotimpuri

d) un anotimp

5. Septembrie este o lună a anotimpului:

a) primăvara

b) vara

c) iarna

d) toamna

6. Drumul pe care trebuie să meargă Mițu pentru a ajunge la pisoi este:

a) A


c) B

b) C

d) D



nu are:



7.

a) gheare

b) cioc

c) colți

d) coadă

8. Mierea este produsă de:

a)



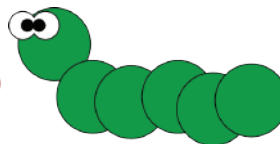
b)



c)



d)



9. Primăvara nu înflorește:

a)



b)



c)



d)



III. SĂ ȘTIM MAI MULT!*

A. TESTE GRILĂ PE DISCIPLINE ȘCOLARE

TESTE PROPUSE



Testul nr. 1

Încercuiește răspunsul corect!

1. Cuvântul „elevul” are:

- a) șase litere și șase sunete
- b) șase litere și cinci sunete
- c) cinci litere și cinci sunete
- d) alt răspuns

2. Seria în care toate cuvintele denumesc mai multe obiecte este:

- a) creion, gumă, ghiozdan, linie;
- b) culori, tablă, jucărie, pensule;
- c) caiete, desene, ceasuri, masă;
- d) acuarele, penare, cărți, bănci.



3. Este scris corect cuvântul:

- a) âncântător
- b) încântător
- c) încîntător
- d) âncîntător

4. Nu apar două grupuri de litere în cuvântul:

- a) Cecilia
- b) Gheorghică
- c) cercei
- d) înghețată

5. Cuvântul cu sens opus pentru „rapid” este:

- a) iute
- b) încet
- c) repede
- d) ager

6. În propoziția „Angela merge la cinematograful cu Gina.” sunt:

- a) cinci grupuri de litere
- b) trei grupuri de litere
- c) patru grupuri de litere
- d) două grupuri de litere

7. Cuvântul „concurs” nu poate fi înlocuit cu:

- a) întrecere
- b) competiție
- c) examen
- d) ceartă

* Grupurile de litere. Adunări și scăderi cu trecere peste ordin în concentrul 0-100
Fenomene, relații, structuri din mediul înconjurător

8. În propoziția „Georghită și Miuara merg împreună la constanța.” sunt:

- a) trei greșeli
- b) patru greșeli
- c) cinci greșeli
- d) șase greșeli

9. Orice propoziție începe cu:

- a) literă mică
- b) alineat
- c) literă mare
- d) alt răspuns

Timp de lucru: 30 de minute



Testul nr. 2

1. Diferența numerelor 11 și 4 este:

- a) 6
- b) 7
- c) 9
- d) 15

2. Rezultatul operațiilor $6 + 7 + 4 - 8$ este:

- a) 11
- b) 10
- c) 9
- d) 8

3. Suma vecinilor predecesorului lui 8 este egală cu:

- a) 16
- b) 18
- c) 14
- d) 12



4. Șirul cu numere ordonate crescător este:

- a) 62, 78, 86, 84, 95;
- b) 71, 78, 87, 89, 93;
- c) 51, 57, 67, 88, 79;
- d) 41, 52, 64, 61, 98

5. Cel mai mare dreptunghi este:

- a) 
- b) 
- c) 
- d) 

6. Dacă fiecare iepuraș mănâncă doar 6 morcovi, atunci rămân:



- a) 3 morcovi
- b) 2 morcovi
- c) 1 morcov
- d) 4 morcovi

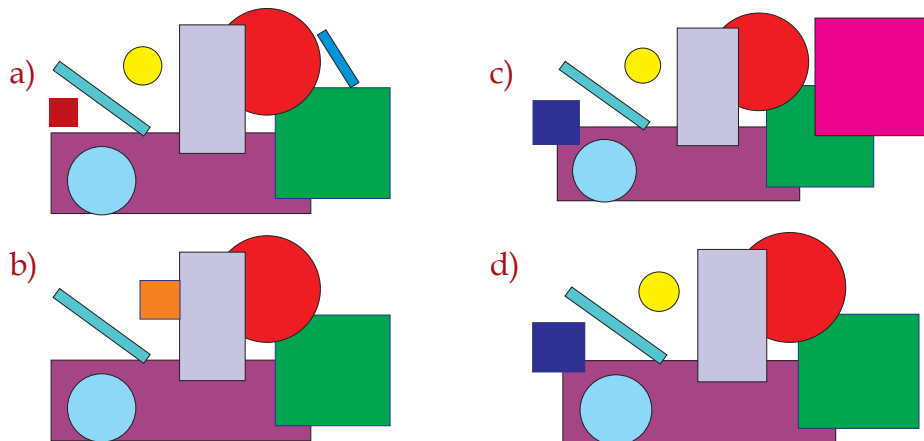
7. Numărul care are cifra zecilor cu 3 mai mare decât cifra unităților este:

- a) 68 b) 47 c) 64 d) 52

8. Cel mai mare număr par mai mic decât 94 este:

- a) 98 b) 93 c) 92 d) 90

*9. Cercurile sunt mai multe decât pătratele, dar mai puține decât dreptunghiurile în figura:



Timp de lucru: 30 de minute



Testul nr. 3

1. Așază în ordine descrescătoare numerele impare. Citește apoi literele care le corespund și vei descoperi că cea mai de preț comoară o reprezintă:

A-33

V-99

a) banii

N-66

b) aurul

T-10

I-86

c) viața

B-4

I-98

d) vacanțele


I-79

A-65

2. În imaginea de mai jos lipsesc:

a) un ochi, nasul, gura, urechile

b) ochii, nasul, gura, o ureche



c) ochii, nasul, gura, urechile

d) nasul, gura, urechile, părul

3. Corpul omenesc este alcătuit din:

- a) cap, trunchi și gât
- b) cap, trunchi și mâini
- c) cap, gât și membre
- d) cap, trunchi și membre

4. Cu ajutorul  :

- a) pipăim
- b) auzim
- c) mirosim
- d) vedem

5. Acasă și la școală este bine să ținem lumina aprinsă:

- a) numai noaptea
- b) mereu
- c) doar atunci când este necesar
- d) numai când scriem și citim

6. Pentru a fi sănătoși, trebuie să mâncăm:

- a) când ne este foame
- b) la ore fixe
- c) cât mai mult
- d) cât mai puțin

7. Trebuie să facem mișcare:

- a) când avem educație fizică
- b) doar în vacanță
- c) în fiecare zi
- d) doar în zilele libere



8. Camerele și sălile de clasă trebuie să fie aerisite:

- a) uneori
- b) o dată pe săptămână
- c) în fiecare zi
- d) niciodată

9. Mâncarea trebuie:

- a) mestecată bine
- b) înghițită în grabă
- c) consumată doar când este fierbinte
- d) consumată doar dacă este foarte rece

10. Mesele principale ale zilei sunt:

- a) mic dejun, prânz și dejun
- b) mic dejun, gustări și cină
- c) dejun, prânz și cină
- d) mic dejun, prânz și cină

11. La masă trebuie:

- a) să mestecăm cu gura deschisă
- b) să mestecăm bine mâncarea
- c) să vorbim cu mâncarea în gură
- d) să mâncăm în picioare

Timp de lucru: 30 de minute

CUPRINS

| | |
|---|----|
| I. SĂ REPETĂM CE-AM ÎNVĂȚAT | 3 |
| A. Teste grilă pe discipline școlare | 3 |
| <i>Teste model</i> | 3 |
| <i>Teste propuse</i> | 5 |
| B. Teste cu subiecte integrate | 9 |
| <i>Test model</i> | 9 |
| <i>Teste propuse</i> | 11 |
| II. SĂ ÎNVĂȚĂM LUCRURI NOI! | 15 |
| A. Teste grilă pe discipline școlare | 15 |
| <i>Teste propuse</i> | 15 |
| B. Teste în care se scrie doar răspunsul corect | 19 |
| <i>Teste model</i> | 19 |
| <i>Teste propuse</i> | 21 |
| C. Teste cu rezolvări complete | 24 |
| <i>Teste model</i> | 24 |
| <i>Teste propuse</i> | 25 |
| D. Teste cu rezolvări combinate | 29 |
| <i>Teste model</i> | 29 |
| <i>Teste propuse</i> | 32 |
| E. Teste cu subiecte integrate | 37 |
| <i>Teste propuse</i> | 37 |
| III. SĂ ȘTIM MAI MULT! | 43 |
| A. Teste grilă pe discipline școlare | 43 |
| <i>Teste propuse</i> | 43 |
| B. Teste cu rezolvări complete | 47 |
| <i>Teste propuse</i> | 47 |
| C. Teste cu rezolvări combinate | 51 |
| <i>Teste propuse</i> | 51 |
| D. Teste cu subiecte integrate | 54 |
| <i>Teste propuse</i> | 54 |
| IV. SĂ AFLĂM INFORMAȚII NOI ȘI SĂ REPETĂM CE-AM ÎNVĂȚAT! | 60 |
| A. Teste grilă pe discipline școlare | 60 |
| <i>Teste propuse</i> | 60 |
| B. Teste cu rezolvări complete | 63 |
| <i>Teste propuse</i> | 63 |
| C. Teste cu rezolvări combinate | 68 |
| <i>Teste propuse</i> | 68 |
| D. Teste cu subiecte integrate | 76 |
| <i>Test propus</i> | 76 |