














TESTUL 4 LIMBA ROMÂNĂ

1. Continuă să scrii semnele grafice până completezi rândurile.

	CC		
	DD		
	lllll		
	oooo		

2. Scrie sub fiecare nor cu ce literă seamănă.

			
<input type="text"/>	<input type="text"/>	<input type="text"/>	<input type="text"/>

3. Colorează imaginile a căror denumire începe cu sunetul C.





Barem notare	1 - 3 puncte	2 - 4 puncte	3 - 3 puncte	Total
Punctaj obținut				

TESTUL 5 LIMBA ROMÂNĂ


1. Alege vocale din casetă și completează cuvintele.

STR _ G _ RE	C _ PȘUN _
L _ M _ IE	P _ RT _ CALĂ
_ N _ N _ S	
A E I O U Ă Â Î	

2. Urmărește linia din mijloc, fără să le atingi pe celelalte. Apoi completează rândul de dedesubt cu nodulețe.

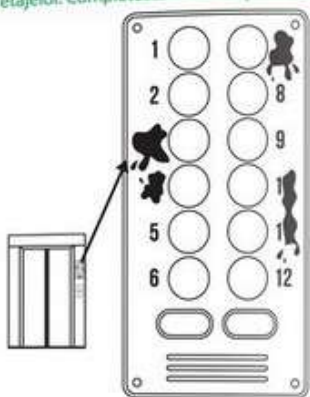
3. Descoperă literele B, C și D și colorează-le.




Barem notare	1 - 3 puncte	2 - 3 puncte	3 - 4 puncte	Total
Punctaj obținut				

TESTUL 7 MATEMATICĂ

1. Meșterul care a renovat casa scării a scâpat vopsea pe panoul liftului și a acoperit numerele etajelor. Completează în cerculețe numerele lipsă.



2. Cine este mai ușor? Colorează căsuța din dreptul animalului care are greutatea cea mai mică.



3. Colorează, în fiecare pereche, căsuța cu numărul mai mare.

<input type="checkbox"/> 3	<input type="checkbox"/> 4	<input type="checkbox"/> 7	<input type="checkbox"/> 8	<input type="checkbox"/> 4	<input type="checkbox"/> 6	<input type="checkbox"/> 1	<input type="checkbox"/> 2
<input type="checkbox"/> 6	<input type="checkbox"/> 5	<input type="checkbox"/> 4	<input type="checkbox"/> 5	<input type="checkbox"/> 1	<input type="checkbox"/> 0	<input type="checkbox"/> 8	<input type="checkbox"/> 9

Barrem notare:	1 - 3 puncte	2 - 3 puncte	3 - 4 puncte	Total
Punctaj obținut:				

TESTUL 8 MATEMATICĂ


1. Continuă numărătoarea:

11	12	13			
10	9	8			
0	2	4			
11	9	7			

2. În care mulțime sunt mai multe elemente? Colorează cu roșu bulina din dreptul ei.



3. Colorează caseta de lângă imaginea care arată $4 + 3 = 7$.



Barrem notare:	1 - 3 puncte	2 - 3 puncte	3 - 4 puncte	Total
Punctaj obținut:				

TESTUL 12 LIMBA ROMÂNĂ

1. Unește cuvintele de pe prima coloană de cele potrivite de pe a doua coloană, ca să formezi propoziții.



STRUȚUL
COCOȘUL
URȘUL
DELFINUL


HIBERNEAZĂ IARNA.
TRĂIEȘTE ÎN APĂ.
ALEARGĂ REPEDE.
STĂ PE GARD.

2. Colorează în ambele cuvinte, bulina care corespunde sunetului I.

AL-○○-NĂ ○○○-GU-RĂ



3. Colorează bulinele care corespund sunetului C.



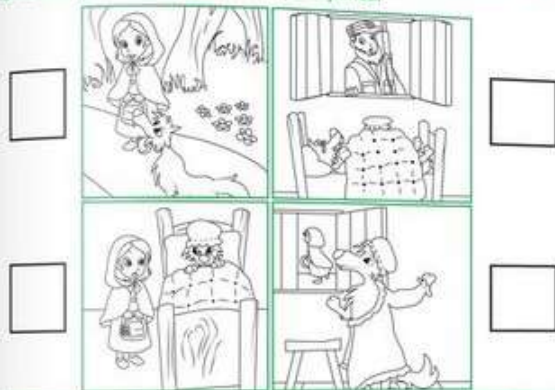
○○○-○○-DIL PI-○○○

14

Sistem notare	1 - 4 puncte	2 - 3 puncte	3 - 3 puncte	Total
Punctaj obținut				

TESTUL 13 LIMBA ROMÂNĂ

1. Privește scenele: din ce poveste fac parte? Scrie în casete numerele de la 1 la 4 ca să le așezi în ordine, apoi povestește acțiunea.



2. Colorează, în cuvintele de mai jos, pătrățelele care corespund literei P:



□ □ □ □ S

□ O

□ □ □ A

3. Scrie câte două nume de țări care încep cu literele R și S.

R _____ , _____
S _____ , _____

15

Sistem notare	1 - 3 puncte	2 - 3 puncte	3 - 4 puncte	Total
Punctaj obținut				