





Minte



scripitoare



Carte de activități



+7 ANI




Traducere de Iuliana Voicu



București, 2020





Brilliant Brain

Copyright © 2019 Dreamland Publications
All rights reserved.

Copyright © 2020 Aramis Print s.r.l. pentru prezenta ediție în limba română.

Toate drepturile rezervate. Nicio secțiune din această carte nu poate fi reprodusă sau transmisă sub nicio formă și prin niciun mijloc, electronic sau mecanic, incluzând fotocopierea, înregistrarea audio sau orice altă formă de stocare a informației, fără acordul în scris al editorului.

Redactare: Dan-Sorin Manea

Copertă și DTP: Carmen Diana Mateescu

Corectură: Eugenia Oprea

ISBN 978-606-009-258-2

Aramis Print s.r.l. • Redacția și sediul social:

B-dul Metalurgiei nr. 46-56, cod 041833, sector 4, București, O.P. 82 – C.P. 38

tel.: 021.461.08.10/14/15; fax: 021.461.08.09/19;

e-mail: office@edituraaramis.ro

Departamentul desfacere: tel.: 021.461.08.08/12/13/16;

fax: 021.461.08.09/19; e-mail: desfacere@edituraaramis.ro

www.edituraaramis.ro

www.librariaaramis.ro

Descrierea CIP a Bibliotecii Naționale a României

Minte sclipitoare : carte de activități : +7 ani / trad. de Iuliana Voicu. -

București : Editura Aramis, 2020

ISBN 978-606-009-258-2

I. Voicu, Iuliana (trad.)

37



PREFAȚĂ

Învățarea poate fi un proces dificil. Din fericire sau nefericire, învățarea timpurie nu se realizează separat, pe bucățele, deși părinții și educatorii ar prefera poate ca numerele să țină de matematică, iar experimentele de științe.

Dar ceva extraordinar se petrece atunci când diversele domenii ale cunoașterii și învățării sunt interconectate, iar copiii dobândesc simultan atât cunoștințe, cât și experiență de viață. Ca s-o spunem mai simplu, tot mai mulți copii știu cum să „unească punctele” din viața reală, iar conexiunile mentale se fac firesc, parcă de la sine.

Ce înseamnă asta? Că avem copii din ce în ce mai deștepți, adaptați și pregătiți pentru noi abilități cognitive.

Cărțile din seria „Minte sclipitoare” contribuie prin exerciții atractive la realizarea legăturilor neuronale într-un mod distractiv, antrenant pentru cei mici.

Și nu uitați! Activitățile și exercițiile din aceste cărți nu înlocuiesc învățarea continuă, pe care dumneavoastră ca părinți, educatori sau învățători trebuie să o desfășurați pe tot parcursul copilăriei.

Sperăm că aceste cărți nu doar vor menține trează atenția copiilor, ci vor contribui în mod creativ la procesul de învățare.

1. DULCE și CALD sunt antonime. Bifează răspunsul corect.

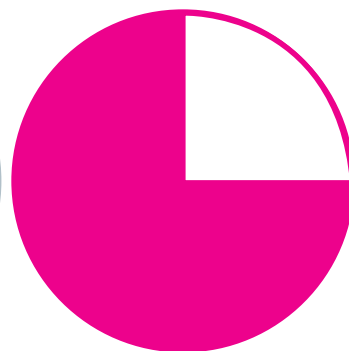

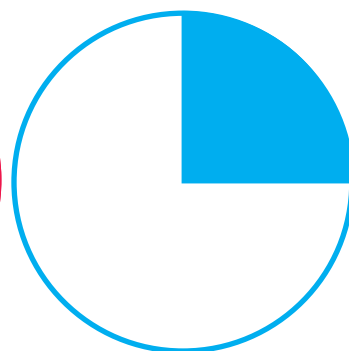
a) ADEVĂRAT

b) FALS

3. Bifează imaginea care sugerează mișcare.



2. Taie forma care este colorată 3/4.



4. Regiunile polare sunt foarte depărtate de ecuator, așa că sunt foarte _____. Scrie răspunsul în spațiul alb.

a) fierbinți

b) reci

c) umede


d) aride

5. Completează spațiul liber cu un cuvânt din lista de mai jos.


Fata aleargă în jurul unui teren de joacă _____.

- a) subțire b) gros c) larg d) înalt

6. Desenează acele, pentru a indica ora 12.35 pe ceas.



7. Toate plantele și animalele sunt organisme _____.



- a) mari b) vii
c) fără viață d) vegetale

8. Bifează cuvântul care definește iarna ca anotimp.

- a) CALD b) ALB c) GALBEN d) VERDE

9.


Tabla de șah conține pătrate dispuse pe două culori.
Bifează ceea ce este corect.

a) Sunt 32 de pătrate deschise la culoare.

b) Sunt 30 de pătrate deschise la culoare.


c) Sunt 28 de pătrate negre.

d) Sunt 34 de pătrate negre.





10.

Completează spațiul liber
cu articolul corect.
_____ fată cu codiță
mănâncă un măr.



11.

Încercuiește animalul
care trăiește și în apă și
pe uscat.



12.

Taie culoarea care nu se potrivește.



13. Alcătuieste o propoziție cu ajutorul cuvintelor de mai jos.

mare la vara și la munte mergem

14.

Desenează linia
ecuatorului cu un
creion roșu.





15. Câți poli are Pământul?
Încercuiește răspunsul.

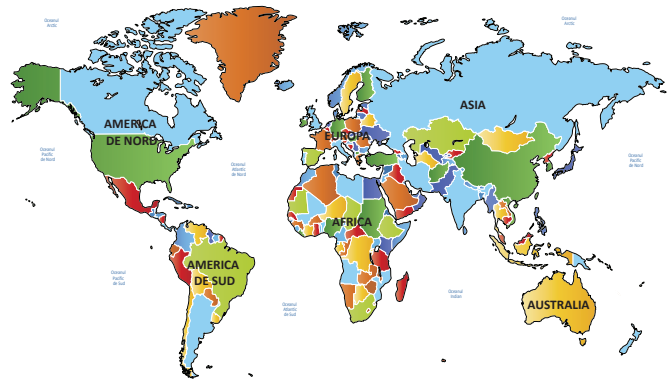


1 **2** **3** **4**

16. Din ce este confecționată
hârtia? Încercuiește
imaginea corectă.



17. Care este continentul
cel mai întins? Bifează.



1. ____ Asia 2. ____ Australia

3. ____ Europa 4. ____ Africa

18.

Completează spațiile libere cu semnele de punctuație corecte.

Vai __ Ești chiar tu __

!

?

.

,





19.

Ordonează alfabetic cuvintele de mai jos.

1. oră 2. cinstit 3. speranță 4. amărui 5. inimă 6. hotă


___ -> ___ -> ___ -> ___ -> ___ -> ___ ->

20. Încercuiește femela păunului (păunița).



21.

Încercuiește persoana originară din Orientul Îndepărtat.



22.

Încercuiește varianta bună pentru a completa corect ambele spații libere.

Pământului îi trebuie _____ pentru a se roti în jurul _____.

A. 12 ore, axei




B. 24 minute, axei

C. 24 ore, poli

D. 24 ore, axei


23.

Încercuiește imaginea al cărei nume începe cu litera **m**.



24.

Ce oră va indica ceasul peste 10 minute? Bifează răspunsul corect.



a) 13 și 10


b) 12 și 45

c) 13 și 30



d) 14

25.


Încercuiește imaginea care reprezintă casa unei omizi înainte de a deveni fluture.



26. Ce poți pune la salată? Încercuiește răspunsul.




27. Cine ajută la producerea electricității? Bifează răspunsul.



28. Al câtelea măr este cel de afară? Completează cu numeralul potrivit.

În afara mulțimii se află ____ măr.



1

2

3



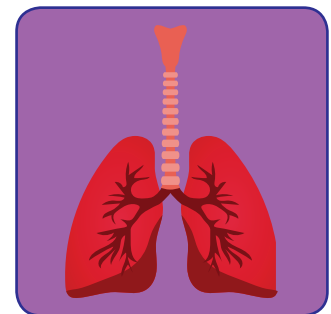
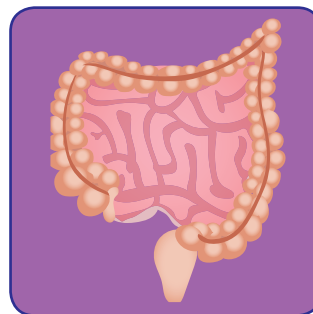
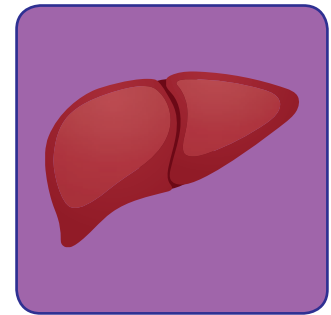
4

5





6

29. Încercuiește organele care fac parte din sistemul digestiv.



30.


Bifează caseta purpurie.



31.

Știi? Delfinii respiră prin plămâni.

Colorează delfinul.



32.

Completează spațiul liber cu unul dintre cuvintele de mai jos.

Am mâncat __ banană la prânz.

a) o

b) un

c) mai multe

d) câteva

33.

Câte pătrate trebuie să străbată pinguinul pentru a ajunge la cutia cu gheață? Încercuiește răspunsul.




13

14

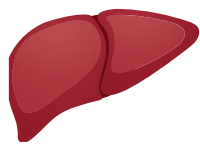
12

8



34.

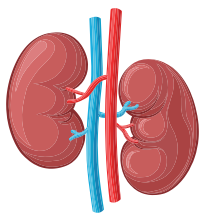
Potrivește fiecare organ cu sistemul din care face parte.



osos



digestiv



respirator



excretor

36.

Bifează țările care fac parte din Europa.

România


Franța

Spania

SUA

35.

Încercuiește ce apare de obicei după ploaie.



37.

Fără a calcula, pune o bifă în dreptul numerelor care sunt divizibile atât cu 2, cât și cu 5.

a) 1560

b) 27895

c) 569430

d) 1784228

38. Bifează partea florii indicată prin săgeată.

FLOARE


RĂDĂCINĂ

FRUNZĂ


TULPINĂ



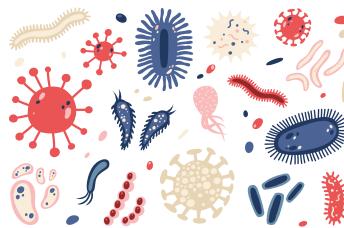
39. În ce imagine apar cele supranumite „adevărate uzine ale vieții”? Încercuiește.



Celule



Frunze





Microorganismе



Soare

40. Găsește și încercuiește 6 diferențe.



41. Completează tabelul cu forma de plural a substantivelor.

fată	
pisică	
inel	
lac	
scriitor	
casă	

42. Bifează răspunsul.

Matei are 16 mașini.

Vrea să le împartă în mod egal în 4 grupuri, iar restul îi vor rămâne lui.

Câte mașini va opri pentru el?

a) 1


b) 3

c) 2

d) 0

43.

Încercuiește mamiferele.



44.

Bifează durata completă a mișcării de revoluție a Pământului în jurul Soarelui.

a) 365 de zile

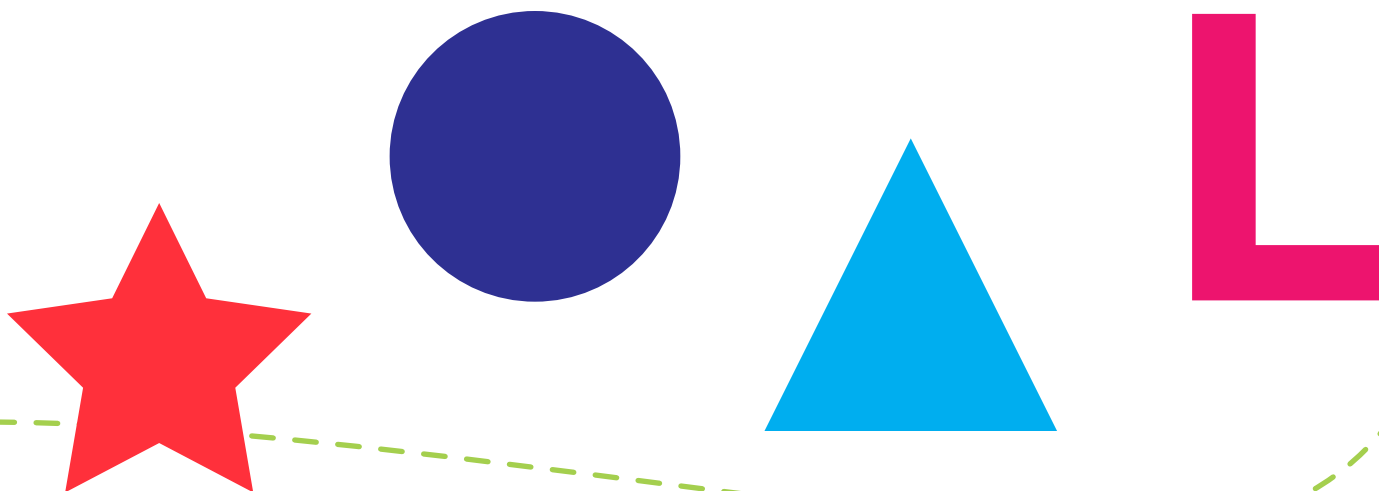
b) 367 de zile

c) 368 de zile

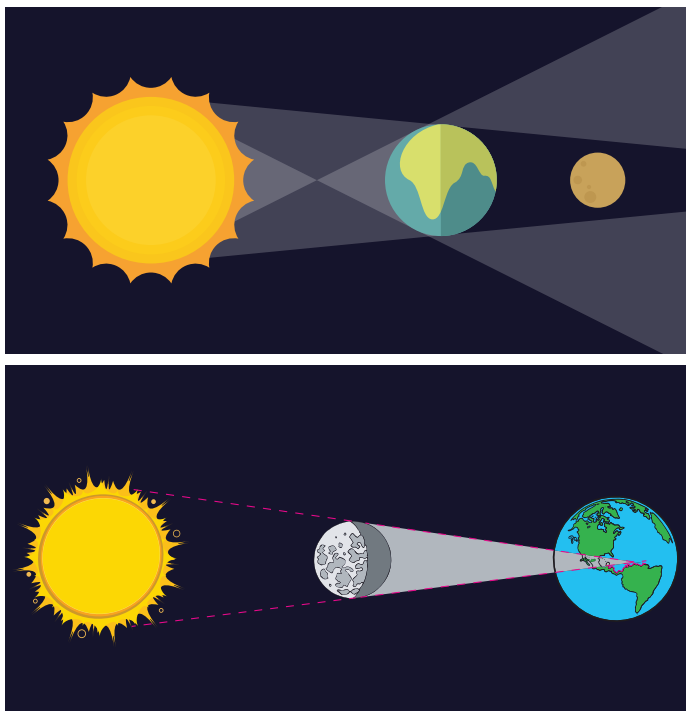
d) 370 de zile

45.

Încercuiește **imaginea în oglindă** a acestei forme:




46. Care dintre cele două imagini arată o eclipsă de Lună? Bifează imaginea corectă.



48. Încercuiește obiectele care pot fi cărate.




47. Excesul căror raze de soare poate fi dăunător sănătății? Bifează caseta din dreptul răspunsului.



1. infraroșii

2. ultraviolete

49. Care este opusul Nord-Vestului? Bifează varianta corectă.



a) NORD-EST

b) SUD-EST

c) VEST

d) SUD-VEST


50. Cine provoacă valurile în mare noaptea? Taie imaginea.



SOARE



LUNA

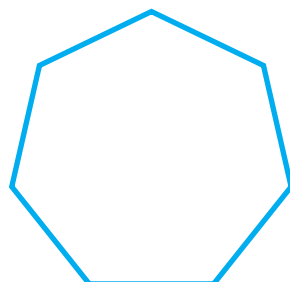




SATURN



PĂMÂNT

52. Încercuiește octogonul.



51. Încercuiește imaginea care arată o boală.



53. Bifează partea corpului în care se găsesc plămâni.


A. CAP

B. STOMAC

C. PIEPT

D. PICIOARE

54. Încercuiește legumele care conțin amidon.



56. Cum se numește un grup de albine?
Bifează.


A. Grămadă

B. Cireadă

C. Roi

D. Hoardă

55. Completează și colorează imaginea.




57. Potrivește denumirile cu imaginile din mediul înconjurător.



biosferă

litosferă



hidrosferă



atmosfera



58. Cine e răspunzătoare de culoarea plantelor?


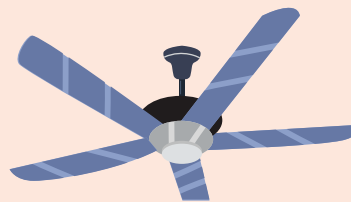


C _ O _ O _ I _ A

60. Care dintre următorii nutrienți e favorizat de razele solare?

1. calciu
2. săruri minerale
3. vitamina D
4. vitamina B

59. Încercuiește obiectul care folosește energie electrică.



61. Completează spațiile cu numerele corecte.


A. $70 = \underline{\quad}$ zeci + $\underline{\quad}$ unități

B. $56 = \underline{\quad}$ zeci + $\underline{\quad}$ unități

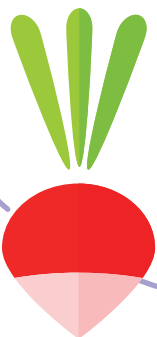
C. $3 = \underline{\quad}$ zeci + 3 unități

D. $\underline{\quad} =$ o zece + o unitate

62. Încercuiește animalul **vertebrat** (care are coloană vertebrală).



64. Ce legumă este rădăcinoasă? Încercuiește răspunsul.



63. La ce fel de forță supune gravitația totul pe Pământ? Bifează răspunsul.




RESPINGERE
(împingere)



ATRACTIE
(tragere)

65. Încercuiește **consoana corectă** pentru a completa spațiul liber.



a _ _ ion

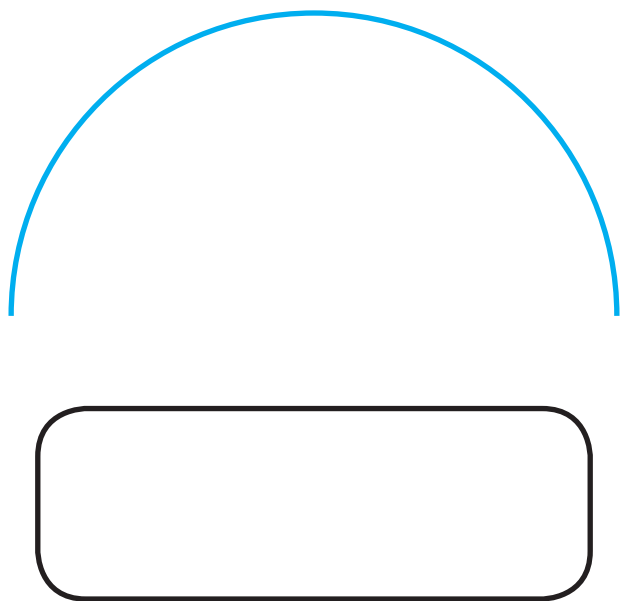
a) v

b) c

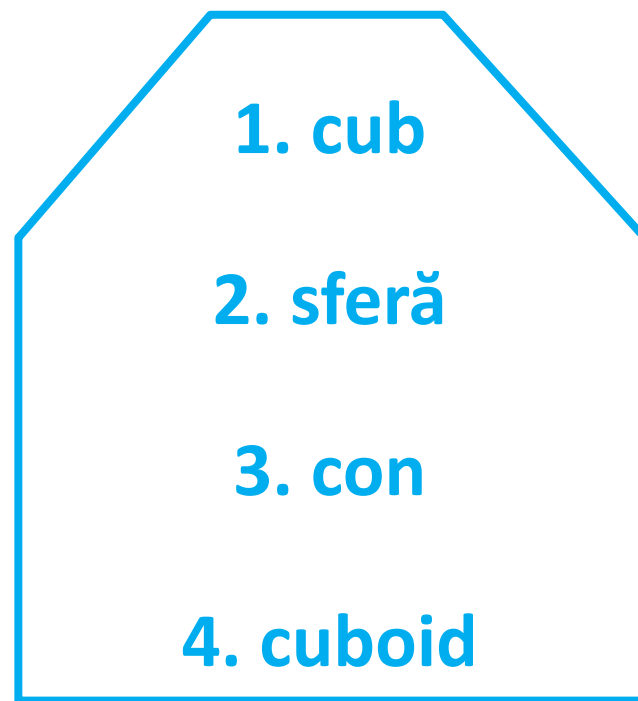
c) d

d) g

66. Cum se numește jumătatea unui cerc?
Scrie în spațiul alb.



67. Cum se numește figura 3D a unui dreptunghi?
Taie răspunsul.



68. Bifează propozițiile care arată că ești un bun cetățean.

- a. Când mergi la un picnic, cureți după tine înainte de plecare.
- b. Dacă un coleg de clasă nu e de acord cu tine, intri într-un conflict cu el.
- c. Nu ajuți persoanele în vârstă să traverseze strada.
- d. Ești politicos cu vecinii.



69. Subliniază cuvântul corect.



avion/avoin



cerb/ceb



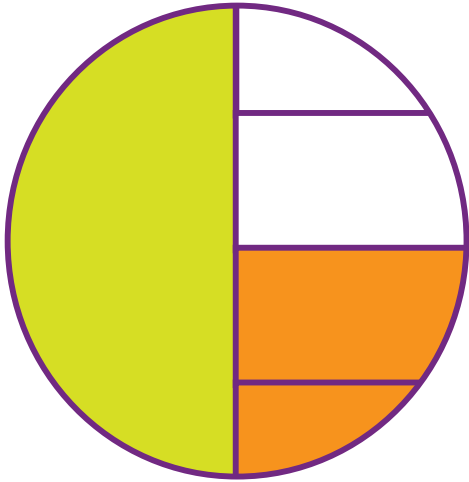
dreapta/drepta

degete/dește



70.


Completează
egalitatea scriind
numărătorul corect.



$$1/2 = \text{---} / 4$$

71.

Ce are pomul și vrea
elefantul? Scrie.



72.

Cunoști **formulele**
chimice ale acestor
substanțe? Încearcă
să le scrii.

apă = _____

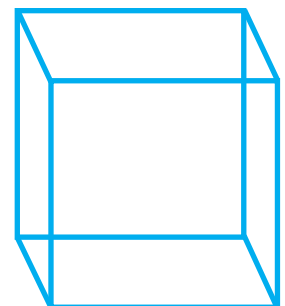
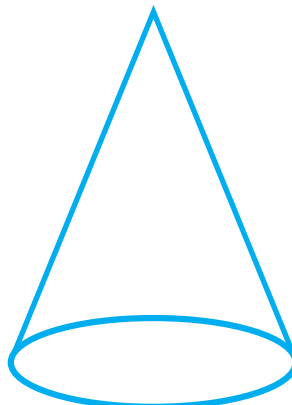


dioxid de carbon = _____

oxigen = _____

ozon = _____

73.

Încercuiește figurile
cărora le putem
calcula volumul.



74. La ce temperatură îngheață apa? Bifează răspunsul.

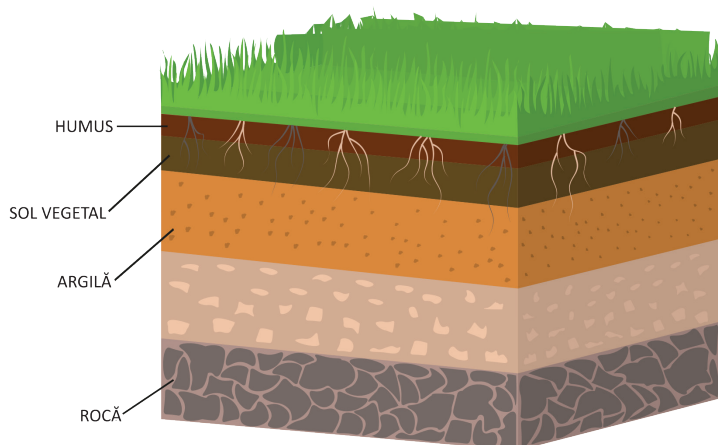
A. 0°C

B. 100°C

C. 20°C

D. 5°C

76. Care este cel mai de jos strat al pământului?



a) humus

b) sol vegetal

c) argilă

d) rocă

75. Transformă corect.

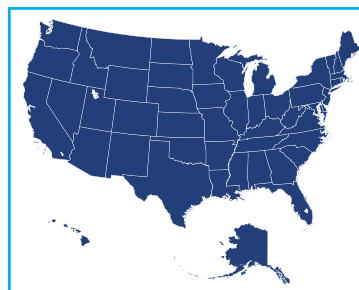
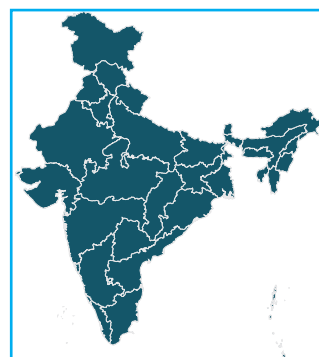
1 m = _____ cm

1 kg = _____ g


1 l = _____ ml

1 t = _____ kg

77. Încercuiește harta care reprezintă și o țară și un continent.



78. Ce pește este cunoscut pentru că produce curent electric? Încercuiește.



79. Bifează propozițiile care au semne de punctuație greșite.

a) Pot să intru?


b) Asta, este frumoasă!

c) Ai vrea te rog să dai mai departe!


d) Numele lui este Ionuț.

80. Rezolvă problemele.

$$15 : 5 = \underline{\quad}$$



$$\underline{\quad} : 4 = 4$$



81. Când gheața se topește se transformă în abur. Bifează răspunsul.

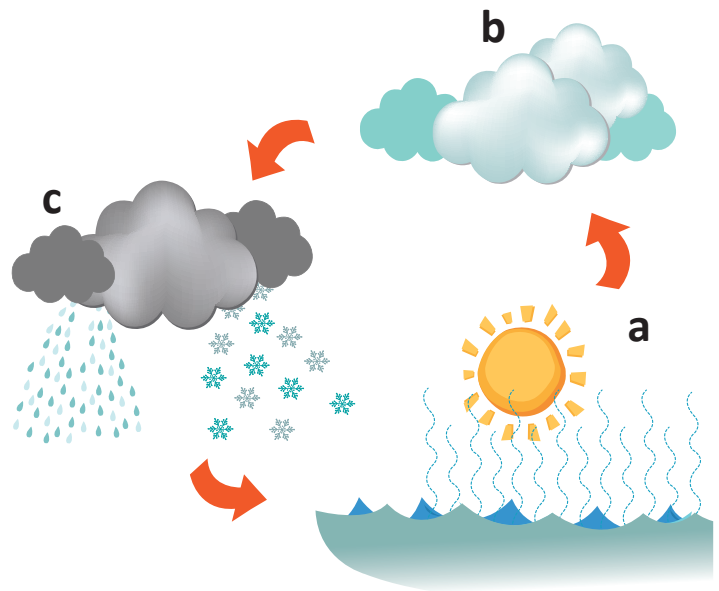
ADEVĂRAT **FALS**

83. Temperatura ideală pentru o cameră este de 24°C. Adevărat sau fals?



ADEVĂRAT **FALS**

82. Încercuiește procesul de evaporare, taie condensarea și bifează precipitațiile.



84. Alege forma corectă pentru a completa spațiul liber.

Profesorul meu _____ să cobor ieri din autobuz.


A. m-a ajutat

B. m-ar ajuta

C. mă va ajuta

D. ajutor

85. Găsește tiparul și completează vagoanele care nu au numere.



86. Completează propozițiile cu forma corectă a verbelor.

1. Ei _____ (merge/merg) la circ în fiecare an.
2. Eu _____ (vreau/vrem) să merg la un spectacol de balet.
3. Maria _____ (vrea/vor) cadou o bicicletă de ziua ei.
4. Oamenii de pretutindeni _____ (doresc/dorește) să fie pace în lume.

88. Pune câte o bifă în dreptul tipurilor corecte de adverb.



adverb de loc

adverb de mod



adverb de agent

adverb de direcție

87. Încercuiește clădirea care reprezintă una dintre cele șapte noi minuni ale lumii.




89. Încercuiește imaginea al cărei nume începe cu **u**.



90.

Câte mâini sunt în imagine? Bifează numărul corect.



5

2

3

4

92.

Care dintre operații dau acest număr?

125

$100 + 25$




$100 + 52$

$130 - 15$

$150 - 25$

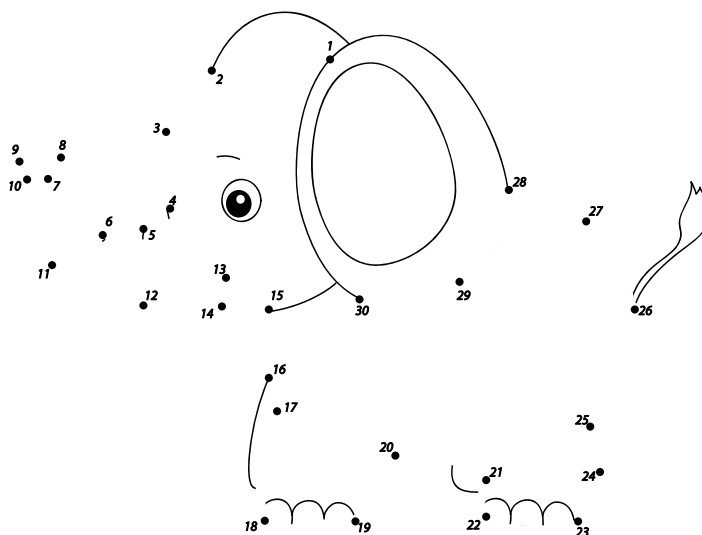
91.

Încercuiește animalele de povară.



93.

Unește punctele ca să vezi ce animal se ascunde.



94. Bifează forma de plural a cuvântului **cactus**.


A. cactuși

B. cactes

C. cactusuri

D. cactuse

96. Bifează planeta care este considerată planetă pitică.



95. Încercuiește imaginea celui care își produce singur hrana.



97. Încercuiește copilul care nu face mișcare.



98. Bifează cuvântul **corect** sugerat prin imagine.







A. topire

B. fierbere

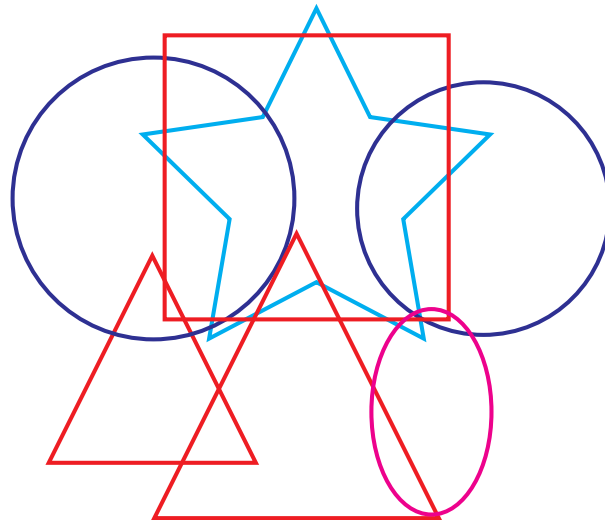
C. evaporare

D. solidificare

100. Taie parazitul.



99. Câte forme sunt în imagine? Bifează răspunsul corect.






5

6

7

8

101. Care este cel mai rapid mijloc de transport? Încercuiește.




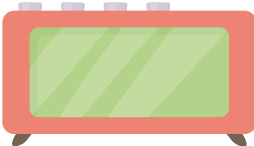

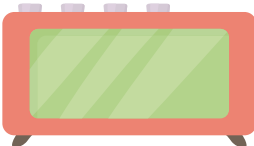

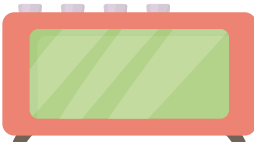


102. Câte jeleuri sunt?
Bifează răspunsul
corect.

Ana are 26 de jeleuri. Ea vrea să-i dea jumătate din ele lui David. Îi dă 14 jeleuri. Este corect numărul?

- a) Nu, David a primit mai multe jeleuri.
- b) Da, David a primit numărul corect.
- c) Nu, Ana are mai multe.
- d) Ana nu i-a dat niciun jeleu lui David.

104. Scrie orele date în
formatul AM/PM.
Prima a fost deja
scrisă ca model.

1.  
2.  
3.  
4.  

103. Băiatul din imagine
respectă regulile de
circulație? Bifează
răspunsul.



DA **NU**

105. Încercuiește obiectele
căroră le mai spunem
o pereche de...



106. Ce culoare se obține când se amestecă albastru cu roșu? Bifează răspunsul corect.

A. magenta

B. violet

C. galben

D. portocaliu

108. Încercuiește cuvântul care este sinonim cu **morocănos**.

A. vesel

B. stresat

C. supărat

D. surprins

107. Dacă mâine este luni, ce zi a fost alaltăieri? Bifează răspunsul.

A. Marți

B. Sâmbătă

C. Duminică

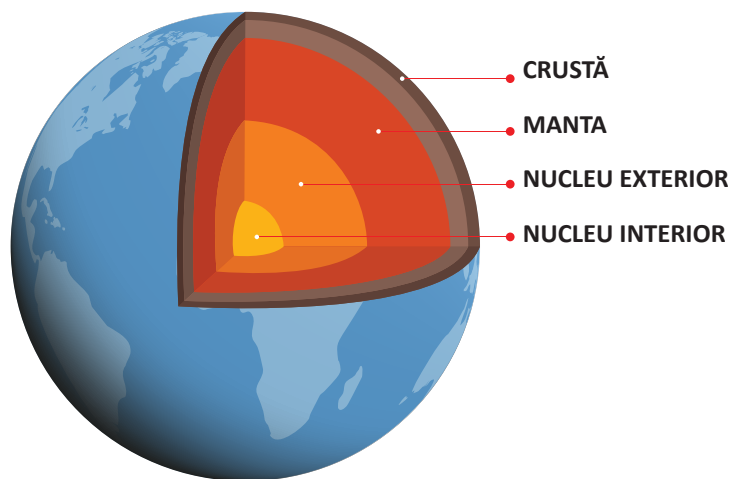
D. Vineri

109. 6 mere costă 10 lei.
5 portocale costă 8 lei.
Dacă Alina cumpără 12 mere și 10 portocale, cât dă în total? Bifează răspunsul corect.

26 lei 40 lei

18 lei 36 lei

110. Care este cel de-al doilea strat al Pământului, de sus în jos? Bifează răspunsul corect.



- a) manta c) crustă
b) nucleu interior d) nucleu exterior

112. Taie cu o linie imaginea care are forma unui cilindru.



111. Încercuiește resursele naturale.



113. Alege consoanele corecte pentru a completa cuvântul.

___ __ acă.


- a) jo b) dt
c) pr d) ft

114. Ce fracție din aceste animale nu sunt **căței**? Încercuiește răspunsul corect.



- a) $\frac{3}{5}$
b) $\frac{2}{5}$ c) $\frac{1}{5}$ d) $\frac{4}{5}$

115. Încercuiește copacul pe care te aștepti să-l vezi la munte.



116. Cine este mai aproape de Polul Nord? Bifează răspunsul corect.

A. Anglia

B. Groenlanda

C. Islanda

D. Canada

117. Câte mingi ating amfora? Încercuiește numărul corect.



21

15

17

16

118.

Bifează și spune ce sau cine e **subiectul** în propoziția de mai jos.

Rebeca s-a așezat la computer pentru a lucra.

a) Rebeca

b) s-a așezat

c) ea

d) computer

119.

La câte blocuri distanță de casă se află băiatul? Încercuiește numărul corect.



10

9



14

11



2 3 4 5 6 7 8 9 10 11 12 13 14

120. Încercuiește obiectele care nu sunt din metal.



121. Încercuiește și arată care dintre imagini pot fi văzute într-un muzeu.



122. Care dintre aceste două luni consecutive au 31 de zile?
Bifează perechea.

1. iulie și august
2. septembrie și octombrie
3. martie și aprilie
4. noiembrie și decembrie

124. Completează spațiile libere cu simbolurile corecte (>, < sau =).

A. 12 15

B. 10 8


C. 20 20

D. 23 23



123. Găsește și încercuiește numele viețuitoarelor în careu.



M	U	S	C	Ă	I	T	O	A
A	H	G	S	T	P	A	B	C
Ș	O	P	Â	R	L	Ă	D	C
D	A	J	S	D	R	D	U	Q
F	L	K	R	Q	C	Y	N	M
G	B	L	Q	R	G	H	P	B
P	I	T	P	T	B	V	N	T
Q	N	Y	D	Y	Q	U	R	S
R	Ă	M	N	G	T	B	D	J
F	L	U	T	U	R	E	L	Y



125. Taie cu o linie pasărea care depune oul cel mai mare.



126. Încercuiește planeta care are cel mai mare număr de sateliți.



Pământ



Saturn



Neptun



Jupiter





128. Aranjează literele pentru a descoperi ce se află în imagine.



NECNTOITEN

=

127. Taie forma care nu este un poligon.



129. Ce figuri au cea mai lungă latură comună? Bifează răspunsul.




A. B și C

B. C și D

C. A și B

D. toate formele

130. Încercuiește
animalul mai rapid.



131. Mersul este o formă
de transport.
Încercuiește răspunsul.

DA
NU



132. Care este forma corectă
de a scrie ora dinaintea
orei 1 PM? Bifează
răspunsul.



A. 12 AM

B. 12 ziua

C. 12 PM

D. 12 noaptea



133. **FAPT** sau **OPINIE**?
Încercuiește răspunsul
corect la fiecare dintre
propozițiile de mai jos.

1. Masa de prânz trebuie
luată chiar la 12.00.

Fapt

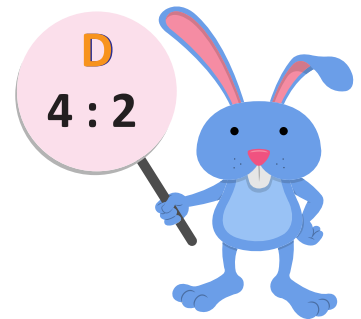
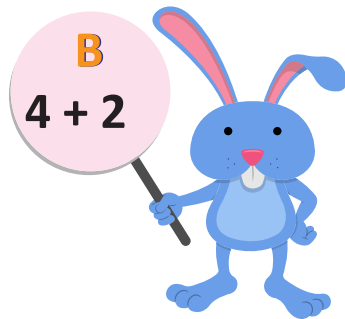
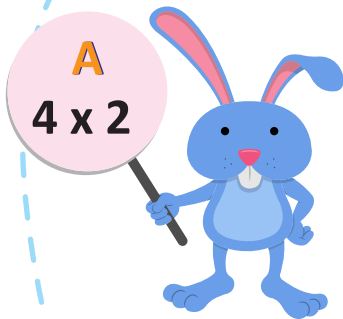
Opinie

2. Soarele este cea mai mare
planetă din Sistemul Solar.

Fapt

Opinie

134. Bifează iepurii cu rezultatul cel mai mic.



135. Sunetul este energia care călătorește prin aer și este produs de _____.
Completează propoziția cu termenul potrivit din lista de mai jos.

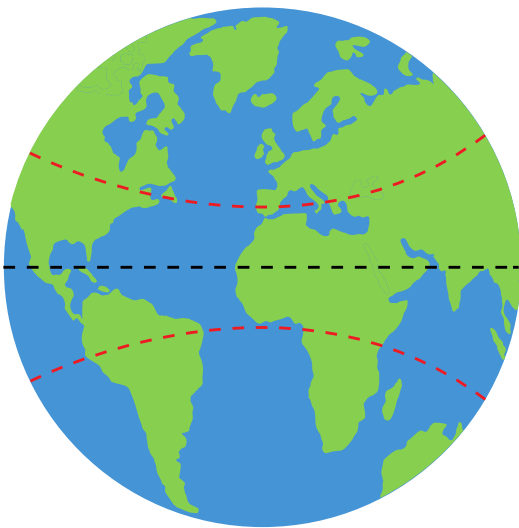
frecare

decibeli

materie

vibrații

136. Cum se mai numește paralela situată la latitudinea de $23^{\circ}27' N$?
Bifează răspunsul.



a. Tropicul Racului

b. Tropicul Capricornului

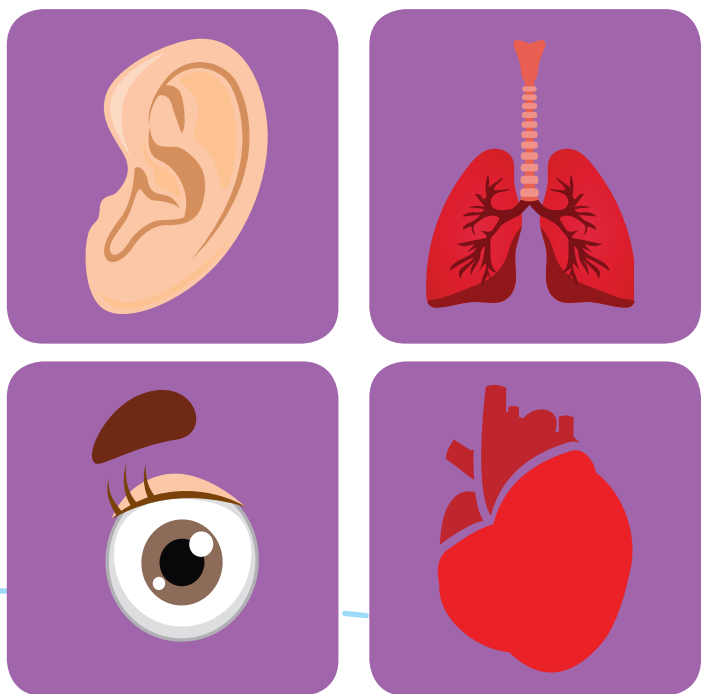
137. Încercuiește imaginea în oglindă a acestui băiat.



138. Taie obiectele care te pot proteja de un șoc electric.




140. Taie cu o linie partea corpului afectată atunci când simți nevoia să tușești.



139. Câte culori vezi? Trasează o linie de la cub la numărul corect.

6

26



27

10

141. Ești adolescent de la 13 la 19 ani. Adevărat sau Fals?

ADEVĂRAT / **FALS**

142. Câte **colțuri** are această formă? Încercuiește răspunsul corect.



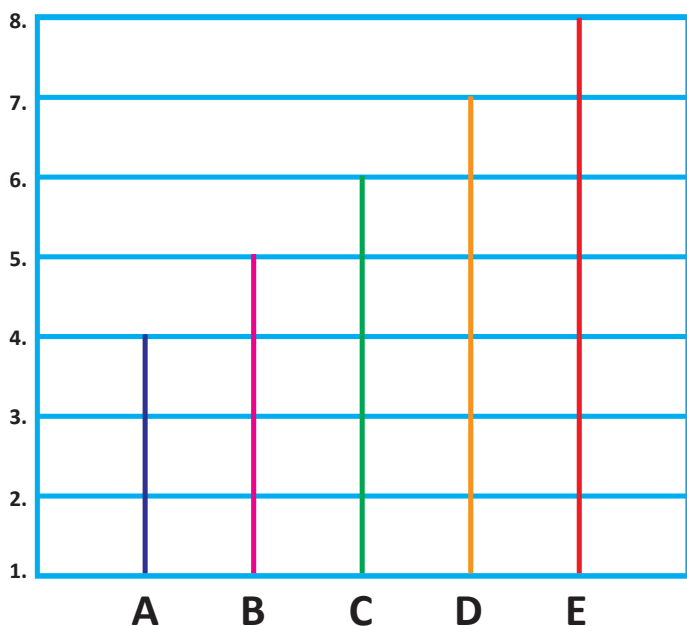
- A 5
- B 4
- C 6
- D 7

143. Completează spațiul liber cu răspunsul corect.

_____ ne salvează de la alunecare.

- a. frecarea b. mișcarea c. zgomotul d. forța

144. Cu câte unități este mai lungă linia D decât linia B? Încercuiește răspunsul corect.




3

4

5

2

145. Materia topită care curge dintr-un vulcan se numește _____. Alege varianta corectă pentru a completa spațiul liber.



argint lavă foc mercur

146. Care dintre aceste elemente se găsește cel mai mult în scoarța Pământului? Bifează răspunsul corect.

A. Carbon

B. Azot

C. Hidrogen

D. Oxigen

147.

Ce lipsește
în imagine?
Încercuiește și arată
opțiunea corectă.



coada

urechile

nasul

părul

148.

Încercuiește toate vocalele
prezente în cuvintele de
mai jos. Scrie în casetă
vocalele pe care nu le-ai
regăsit aici.

M Ă R



M A I M U Ț Ă

U M B R E L Ă

I A R B Ă


149.

Ce cifră reprezintă ordinul sutelor?
Taie cu o linie.

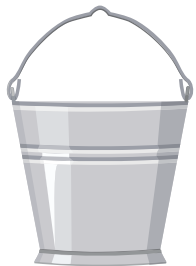
2 0 2 0

150.

Încercuiește animalul care este omnivor.



151. Care este metalul care se găsește din abundență în scoarța Pământului? Bifează răspunsul.



Aluminiu



Aur



Fier



Argint

153. Încercuiește planeta care se află la distanța cea mai mare față de Soare.




Pământ



Saturn


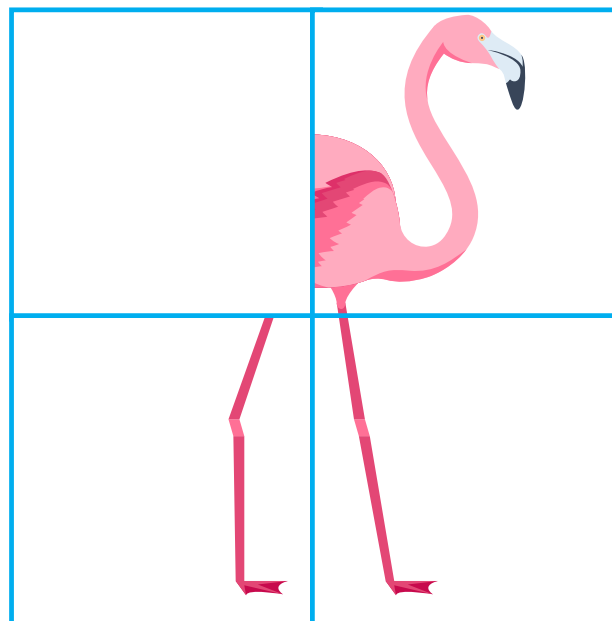


Marte



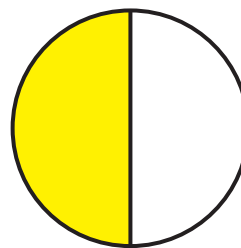


Neptun


152. Găsește și încercuiește piesa care lipsește din puzzle.



154. Încercuiește forma colorată în proporție de 1/4.



155. Ce pasăre vezi
noaptea? Încercuiește
imaginea.



156. Care dintre culori este mai
apropiată de magenta?
Bifează răspunsul potrivit.

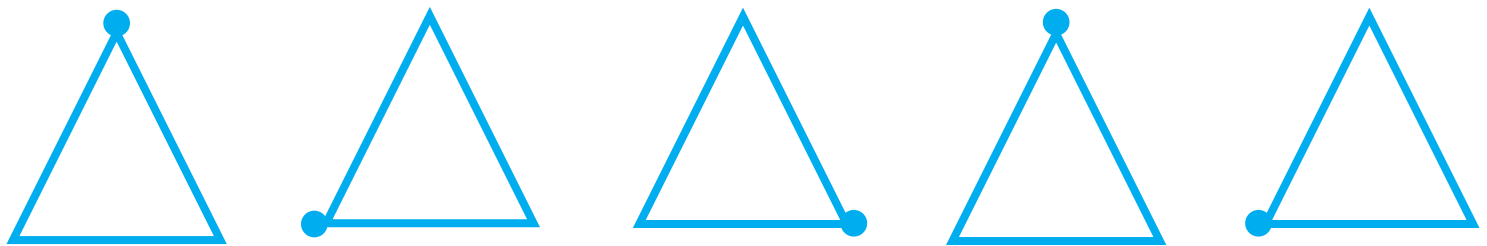
A.
albastru

B.
verde

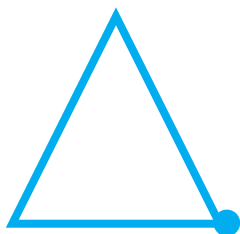
C.
galben

D.
roșu

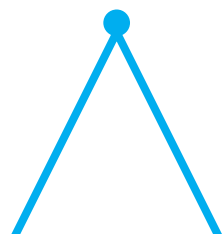
157. Care este următoarea figură în șir?
Încercuiește varianta corectă.



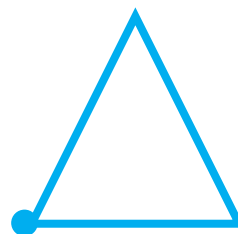
A.




B.



C.



D.



158.

Scrie pluralul substantivelor de mai jos.




A. minge _____

B. tablă _____

C. creion _____

D. lumânare _____



159.

Ce figură nu are colțuri? Bifează răspunsul corect.

A. pătrat

B. triunghi

C. cerc

D. pentagon

160.

Încercuiește locul cu cele mai multe precipitații.

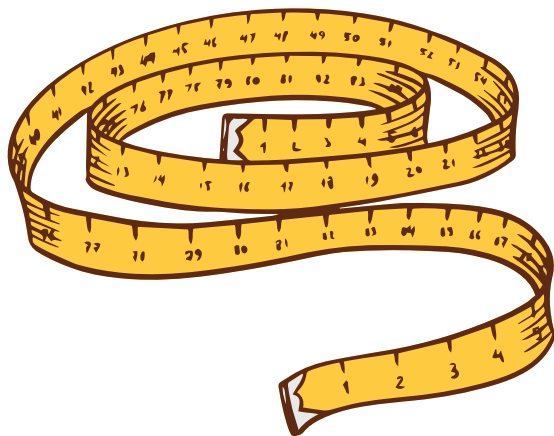


161.

Ce comportament este potrivit pentru a-ți începe ziua? Încercuiește.

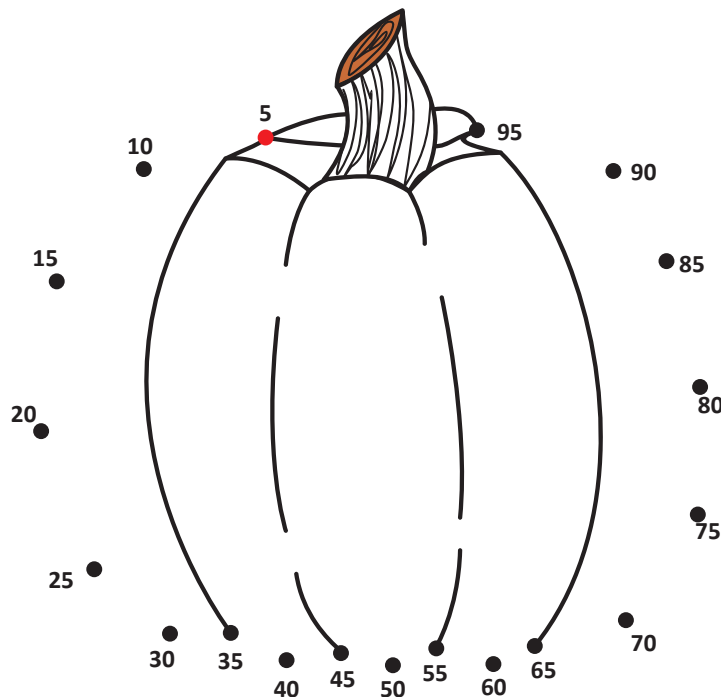


162. Dacă ai cumpărat 5,5 metri de material, câți centimetri de material ai în total?



- a. 550 cm b. 515 cm
c. 55 cm d. 5,5 cm

163. Unește punctele din 5 în 5 pentru a obține imaginea.



164. Bifează numele insectei care produce fire pentru țesături.



A. fluture

B. vierme de mătase

C. păianjen

D. râmă

165. Încercuiește alimentul care are nutrienți necesari pentru o dantură sănătoasă.



166. Bifează a zecea lună din calendar.



A. Ianuarie

B. Decembrie

C. Noiembrie

D. Octombrie

168. Ce se obține prin evaporarea apei de mare? Încercuiește răspunsul corect.


a. nimic

b. sare

c. zahăr

d. scoici

167. Cum se numesc aceste grupuri de animale? Completează spațiile albe.



un _____ de pești



un _____ de albine

169. _____ viețuitoare(le) au nevoie de apă pentru a supraviețui. Taie răspunsul corect.

A.

Toate

B.

Câteva

C.

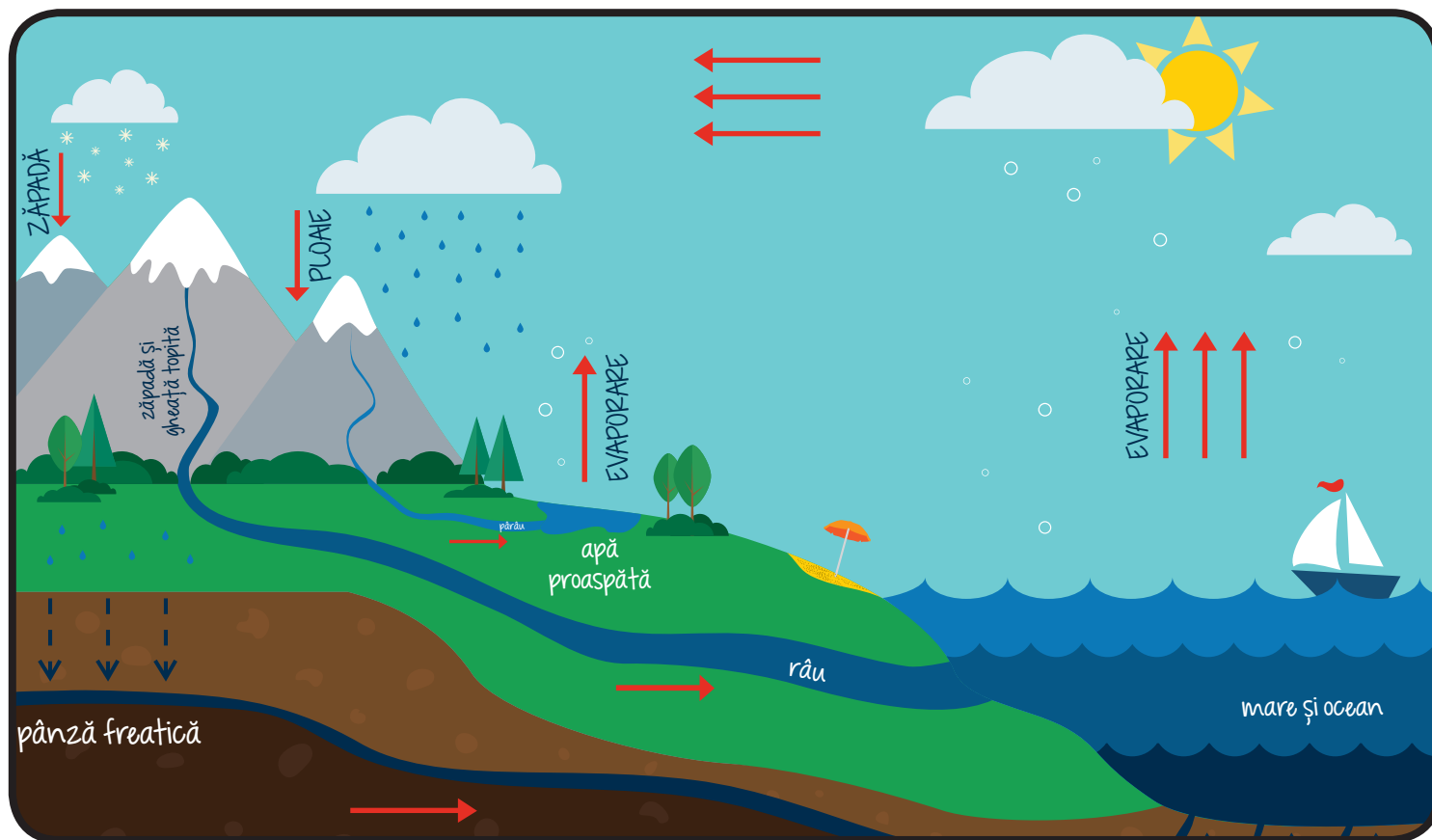
Nicio

D.

Multe

170.

Cine readuce apa evaporată în circuitul terestru? Încercuiește răspunsul.



Pământul


Norii

Soarele

Oceanul

171.

Ajută broasca-țestoasă să ajungă la măr.



172.

Învățătoarea mea este foarte drăguță. Ea m-a ajutat să rezolv o problemă de matematică foarte ușor.

Care este subiectul din textul de mai sus? Bifează răspunsul.


A. despre un joc de fotbal

B. învățătoare

C. matematică

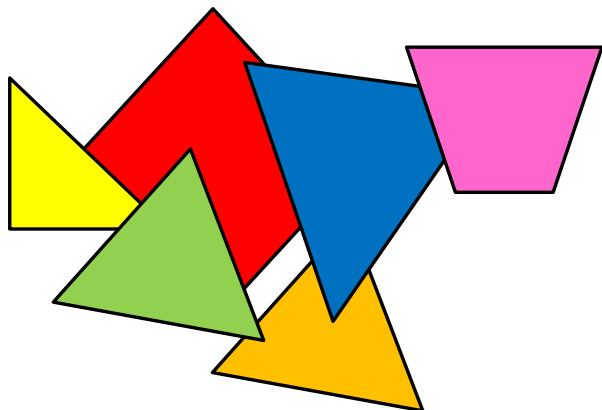
D. eu

173. Câte membre are
viețuitoarea din imagine?
Bifează răspunsul corect.



- a. 8 b. 6
c. 4 d. 2

175. Câte triunghiuri
sunt? Bifează
răspunsul corect.



A. 5

B. 4

C. 3

D. 6

174. Care dintre
următoarele funcții
este cea mai înaltă
poziție în majoritatea
statelor? Bifează.

A. președinte

B. director

C. părinte

D. ministru

176. Un sinonim pentru
deștept este **fraier**.
Încercuiește răspunsul
corect.

ADEVĂRAT

FALS

177. Adrian își împarte cele
40 de cărți în seturi de
câte 5. Câte seturi are?
Încercuiește răspunsul.


A. 10

B. 8

C. 6

D. 4

178. Încercuiește legumele care pot fi consumate **proaspete**.



180. Rezolvă jocul de sudoku.

		4	3	2	7		1	
2	1	7	9		5		4	3
3							2	7
	3	1				4		8
5	9			4	3	2		
	7		6	5	8	1	3	
	4		2	3				
	5	6		7	4	3		2
8		3		1		7	6	4

179. Ce culori amesteci pentru a obține portocaliu? Bifează răspunsul.

A. roșu și albastru

B. roșu și galben

C. albastru și galben

D. roșu și verde

181. Manualul meu de matematică este _____ decât cel de geografie.

A. mic


B. mai mare

C. egal

D. mai bun

182.

Câte pătrate sunt colorate? Bifează răspunsul.



A. 20



B. 25

C. 30

D. 35


184.

Încercuiește imaginea preferată de mâncăcioși.




183.

Încercuiește planta care este carnivoră.



185.

Taie ce nu se potrivește.



186. Completează cuvintele cu prefixul corect dintre cele de mai jos: dez, di, do.

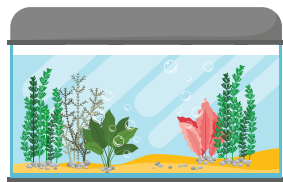

A. ____ mensiune

B. ____ rință

C. ____ amăgire

D. ____ aprobare

188. Încercuiește „casa“ furnicii.



187. Care este mai greu?



189. O constelație este un grup de stele cu forme imaginare de animal sau altă creatură. Bifează răspunsul.

ADEVĂRAT **FALS**

190. Încercuiește al patrulea animal din stânga de pe fiecare linie.



191. Completează enunțul cu **articolul** potrivit.

Mihai este singurul din
clasa lui care are _____
revistă cu un supererou.

- a) un b) o
c) una d) unul

193. Fotosinteza are loc atât
în timpul zilei, cât și al
noptii. Adevărat sau
Fals? Taie răspunsul.



ADEVĂRAT

FALS

192. Bifează exercițiul la
care toate numerele
au numai zeci.

A. $31 + 10 - 40$

B. $25 + 25 - 0$

C. $33 + 20 - 10$

D. $10 + 20 + 10$

194. Bifează casetele care
reprezintă acțiunile
unui bun cetățean.


A. aruncă gunoiul la coș

B. votează

C. ajută oamenii în vârstă

D. intră într-o bătaie

195. Încercuiește cel mai greu animal.



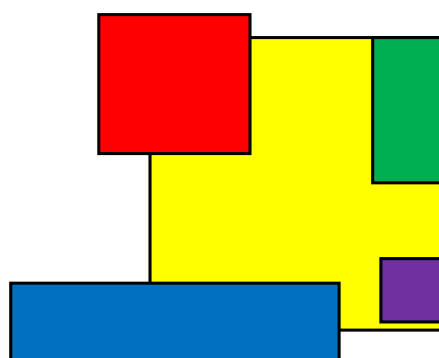
198. Încercuiește obiectele care, dacă ar cădea, pot face zgomot.



196. Încercuiește forma de plural a cuvântului **margaretă**.

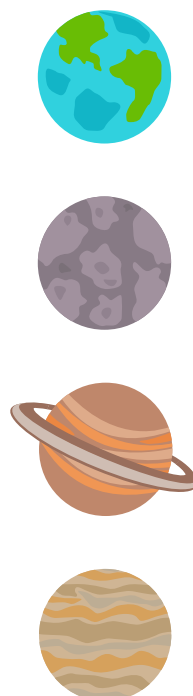
- a. margarite c. margolette
b. margarete d. mărgaritare

197. Ce formă are cea mai mare arie? Bifează răspunsul corect.



- A. albastră
B. roșie
C. galbenă
D. verde

199. Ce planetă este mai aproape de Soare? Bifează răspunsul corect.




Pământ

Mercur

Saturn

Venus

200. Știi? Lebăda ține minte cine a fost sau nu drăguț cu ea. Completează desenul.



202. Care este unitatea de măsură pentru benzina pusă în rezervor? Taie cu o linie răspunsul.


1. gram

2. litru

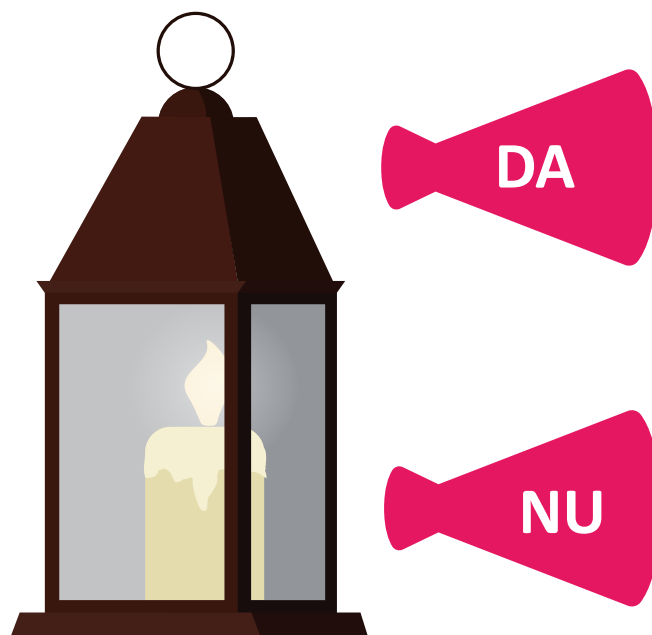
3. metru

4. oră

201. Încercuiește pasărea care nu își construiește cuib și preferă să depună ouă în cuibul altor păsări.



203. Lumânarea va mai arde mult timp în acest felinar complet închis? Încercuiește răspunsul.



204. Încercuiește culoarea caldă.

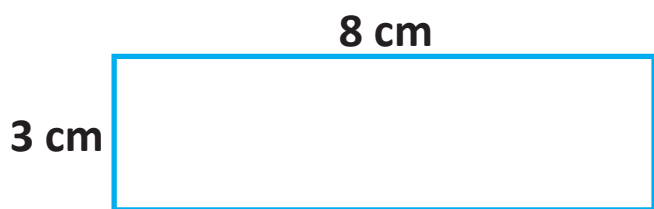
a) roșu

b) albastru

c) verde

d) roz

205. Dacă lungimea dreptunghiului este de 8 cm și lățimea de 3 cm, care va fi perimetrul lui? Încercuiește răspunsul.







21 cm 20 cm 11 cm 22 cm

206. Dacă dormi de la ora 10 PM până la ora 7 AM, câte ore dormi în total în 4 zile? Încercuiește răspunsul.



48 de ore 36 de ore

32 de ore 27 de ore

207. Încercuiește obiectul format dintr-o silabă.



208. Încercuiește ce are copacul mai numeros.




210. Încercuiește unitățile de măsură pentru temperatură.

a. grame

b. grade

c. metri

d. numere




209. Ce culoare a semaforului are semnificația „pregătește-te”? Bifează răspunsul.

a) roșie


b) verde

c) galbenă



211. Încercuiește mandolina.

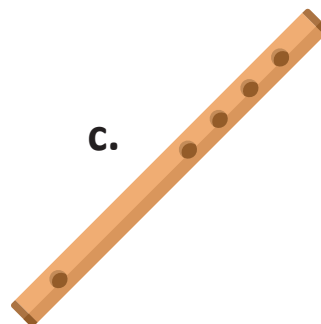
a.




b.




c.



d.



212. Care este câtul, dacă împarți suma numerelor din casetele roșii la numărul din caseta verde? Bifează răspunsul.



- A 4 B 5 C 1 D 6

214. Cum se numește procesul de încolțire a unei plante? Încercuiește.



- a) germinație b) creștere
c) naștere d) înflorire

213. Ce ocupă cea mai mare parte de pe Pământ? Încercuiește răspunsul.

a) uscat

b) apă

c) copaci

d) lavă




215. Cum se numește procesul de strângere a recoltei de pe câmp? Completează cuvântul.



R _ C _ L _ A _ E

216.

Bifează denumirea
obiectului indicat
de săgeată.



217.

Bifează casetele cu
același rezultat ca la
adunarea $1 + 4$.

a) $4 + 7$

b) $3 + 2$

c) $6 - 1$

d) $7 - 2$

218.

Bifează resursa
inepuizabilă.



219.

Ce țară este
cunoscută drept
Țara soarelui răsare?
Bifează răspunsul.




a) China

c) Egipt

b) India

d) Japonia

220. Numără șirurile de câte 7 mingi și scrie răspunsul corect.



- a. 21 b. 42
c. 35 d. 31

222. Din câte cuburi e construită această structură? Taie răspunsul corect.




- a) 5 b) 7 c) 9 d) 11

221. Ce oferă culoare pielii omului? Scrie literele lipsă.



223. Numerotează etapele din viața unui fluture în ordinea în care se petrec.



224.

Din ce sunt inelele planetei Saturn?
Încercuiește răspunsul corect.





- 1. asteroizi 2. sateliți
- 3. meteoriți 4. comete

226.

Care semn de punctuație nu se potrivește în spațiul indicat?

Mâine este ultima zi de concurs _____



225.

Completează puzzle-ul adăugând numere sau semne matematice.

a. _____	x	2	12
x		x	
3		b. _____	
18	c. _____	8	d. _____

227.

Care este diferența între numerele de pe borcanele cu jeleuri?



a) 40

b) 50

c) 60

d) 30

228.

Cine va câștiga
în cazul unei
întreceri? Încercuiește
răspunsul.



229.


Ionuț este ascultător
și politicos cu toată
lumea. De asemenea,
împarte cu alți copii
dulciuri și jucării.
El este _____.

a. disciplinat

b. neastâmpărat


c. bine-crescut

d. arogant






230.

Poți trasa 4 linii în care să se afle toate punctele de mai jos?



231.

Încercuiește figurile care
nu au diagonală.



232.

Ce număr se repetă de mai multe ori în tabel? Încercuiește răspunsul.


4	3	2	1
8	2	6	4
9	7	4	1
4	6	9	7

a) 4

b) 2

c) 6

d) 7




234.

Încercuiește imaginea celor care dau pedepse răufăcătorilor.



233.

Care dintre viețuitoare este prada? Încercuiește.



a) șarpele

b) broasca



235.

Desenează ce urmează în fiecare linie.

A



B



236. Încercuiește propoziția.

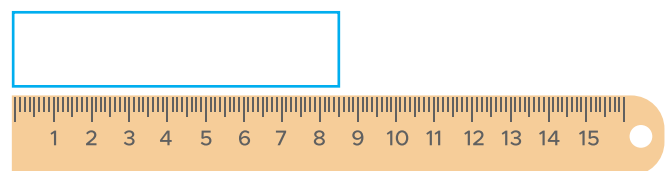
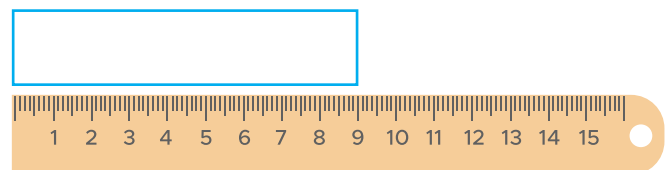
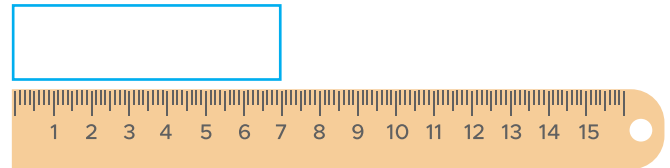
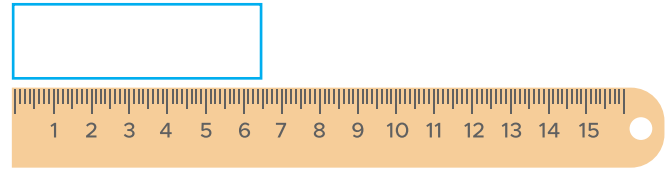
a) Îmi place să mănânc căpșuni.

b) mango și căpșuni

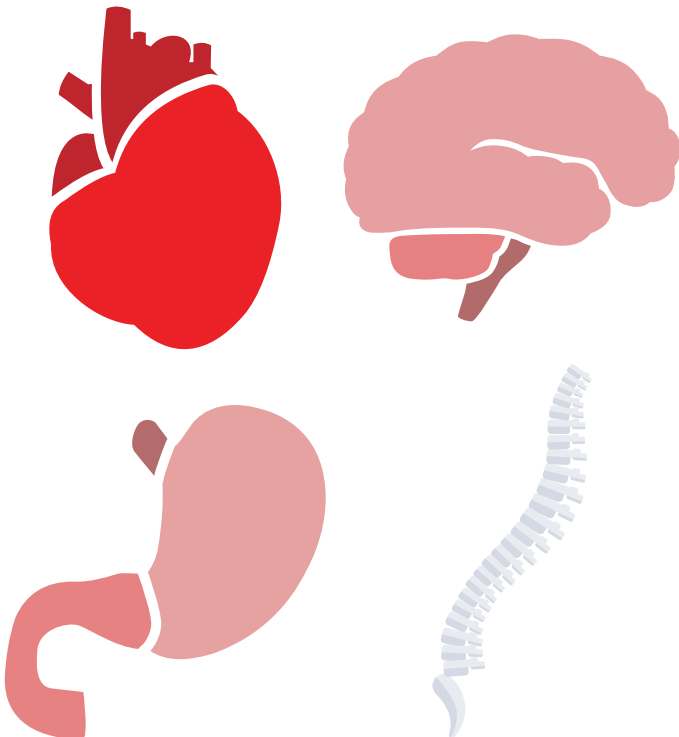
c) Se joacă cu jucării,

d) roșii și portocale.


237. Care este mai lungă?
Încercuiește.



238. Încercuiește partea
corpului care te
ajută să stai drept.




239. Ce parte a bicicletei
este indicată de
săgeată? Completează
spațiile albe.



S _ I _ E

240. Încercuiește imaginea vulturului.



241. Scrie în ordine literele de mai jos pentru a obține numele animalului din imagine.



N R O C N I U = _____


242. Cât măsoară frunza?
Bifează răspunsul corect.




- a) 5 kilometri
- b) 5 centimetri
- c) 5 litri
- d) 5 milimetri



243. Potrivește fiecare viețuitoare cu sunetul pe care îl produce.



muget



cucurigu



nechezat



răget

244.

Taie ceea ce este
imaginar.



246.

Încercuiește obiectul
de prins fluturi.



Dacă ești născut la această
dată, ziua ta va veni o dată
la 4 ani. Despre ce dată
este vorba?

245.

AN BISECT

366

- a. 28 februarie b. 30 aprilie
c. 29 februarie d. 31 martie

247.

Care este fracția
paharelor goale?
Bifează răspunsul
corect.

$\frac{4}{5}$

$\frac{5}{10}$

$\frac{3}{5}$

$\frac{4}{10}$




248.

Potrivește fiecare stare de agregare a apei cu forma ei moleculară.



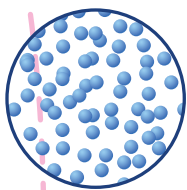
GAZ



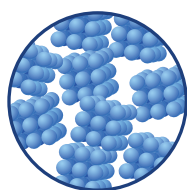
LICHID




SOLID



A



B



C

250.

Scrive în tabel cuvintele în categoria potrivită.

dezghețat norișor reculegere
antifurt fierărie inimioară

cu prefix	cu sufix

249.

Taie cuvintele scrise greșit.

prieten

câne




cadou

căduros

bijutere

251.

Încercuiește obiectul folosit pentru a afla sensul unui cuvânt.



252.

$13578 > 13576$

Bifează răspunsul corect.

ADEVĂRAT

FALS



254.

Încercuiește moneda folosită în Uniunea Europeană.



253.

Potrivește fiecare piatră cu denumirea corectă.

safir

ametist

rubin


smarald

diamant



255.


Ajută albina să ajungă la stup.



256. Descoperă pe verticală sau orizontală 5 nume de animale.

O	M	U	U	R	S	W	R	I	E
H	O	R	S	E	F	W	M	P	L
Q	O	B	P	I	S	I	C	A	E
Y	T	I	W	I	A	I	B	P	Y
W	U	V	U	L	P	E	B	A	H
C	R	O	C	O	D	I	L	G	U
N	B	W	N	R	F	G	B	A	N
R	R	E	L	P	C	G	Q	L	T
H	E	E	A	P	R	G	S	Q	C
Y	O	G	A	R	K	L	I	Y	R

258. Încercuiește obiectul pe care trebuie să-l porți întotdeauna când faci un experiment.



257. Maria are 20 de lei în pușculiță, iar prietena ei, Ioana, 35 de lei. Câți lei îi mai trebuie Mariei pentru a avea cât prietena ei?

a
10

b
15

c
20

d
25

259. Dacă circumferința unui ceas este de 15 cm, câți centimetri va acoperi acul orar al ceasului într-o zi? Bifează răspunsul.

A. 35

B. 30

C. 60

D. 15

260. Încercuiește ce nu se potrivește.



261. Ce reprezintă gheața carbonică? Bifează răspunsul.

a) dioxid de carbon solid

b) monoxid de carbon

c) hidrogen înghețat

d) dioxid de carbon

262.

Avem următoarele cuburi: unul negru, 2 albastre, 5 verzi, 3 roșii și 4 galbene. Câte cuburi sunt în total? Taie răspunsul corect.

10

15



20

12

263. Încercuiește tricoul în care ți-ar fi cel mai cald într-o zi caniculară.



264. Încercuiește obiectul folosit la construcția unei case.



265. Dacă peste exact 8 ore va fi următoarea zi, ce oră este în momentul de față? Bifează răspunsul corect.

2.00 PM

6.00 PM

12 ziua

4.00 PM

266. Taie o altă denumire pentru **vis urât**.

periculos

coșmar

frică

poveste


267. Identifică și încercuiește cel puțin 6 diferențe.




268. Cum se formează norii? Bifează răspunsul corect.

- a) prin evaporarea apei din mări
- b) prin fierberea apei într-un vas
- c) prin aruncarea apei în aer
- d) prin topirea gheții

269. Ce minge este folosită la jocul de golf?
Încercuiește răspunsul.



270. Câte pătrățele sunt acoperite de inima roșie? Încercuiește numărul corect.



10 15 12 14

271. Cu ce se ocupă un actor? Bifează răspunsul corect.

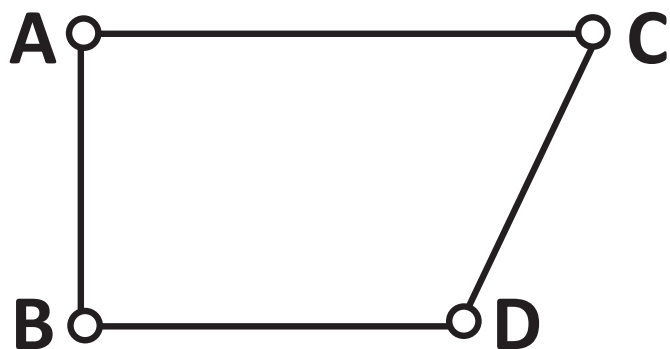
interpretează
roluri

zugrăvește

repară
mașini

construiește

272. Încercuiește răspunsul care indică cel mai lung segment.



de la A la B

de la B la D

de la A la C

de la C la D


Acul busolei este
273. îndreptat spre _____
Taie răspunsul corect.

Sud

Nord

Est

Vest



274.

Încercuiește obiceiurile care îți pot provoca neplăceri.

dansul

sportul

cântatul

furtul

275.

Scrive poziția pe care o ocupă fiecare literă în alfabet. Prima este deja scrisă pentru tine.

G – a șaptea

K – _____

L – _____

M – _____

W – _____

Z – _____

276.


Scrie câte un sinonim pentru cuvintele de mai jos.

căldură

fericire

277.

Ce fracție reprezintă partea cercului colorată cu albastru?



$\frac{2}{4}$

$\frac{3}{4}$

$\frac{2}{6}$

$\frac{1}{2}$

278.

Cine îngrijește animalele? Bifează răspunsul corect.




dentistul

asistenta

poștașul




veterinarul

279. Încercuiește reptilele.



280.

Ce animal se află în stânga cutiei? Bifează răspunsul.



1. măgar

2. vacă

3. leu

4. câine


281. Încercuiește
consoanele din cuvânt.

CONSOANE


283. Încercuiește
viețuitoarea care
are sânge rece.



284. Completează
imaginea.



282. Ce iei când ai
febră? Încercuiește
imaginea.



285. Care dintre propoziții
este prima? Bifează
răspunsul.

Numele meu este Maria.

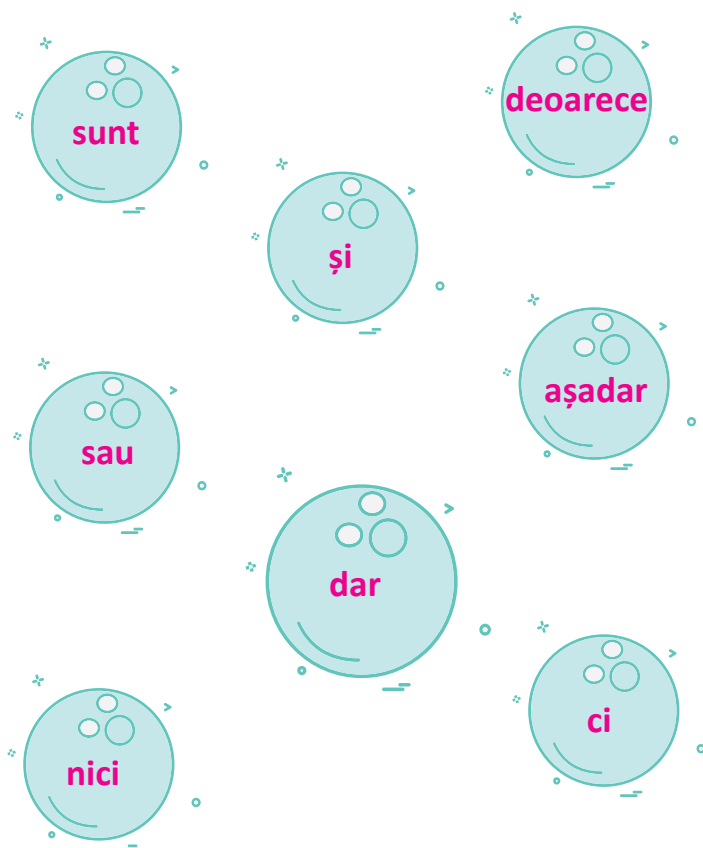
Care este numele tău?

Îmi pare bine de cunoștință.

Noapte bună!

286.

Taie cu o linie
conjunțiile.



287.

Ce faci când un străin
îți oferă o bomboană?
Bifează răspunsul
corect.

Iei bomboana.

Nu iei bomboana.

288.

Când inspiri și expiri
aer, tu _____.

respiri




miroși

strănuți

sughiți

289.

Încercuiește
viețuitoarea
care se uită în
aceeași direcție
ca și câinele.




290.

Adună penultimul
număr cu antepenul-
timul și scrie suma lor.

16 15 14 13 17



291. Încercuiește animalul care nu e reptilă.



292. Ce foloseau oamenii preistorici pentru a face focul?
Încercuiește obiectul.



293. Colorează imaginea folosind doar culorile de pe paletă.



294. Încercuiește imaginea care este opusul liniștii.



295. Care este probabilitatea de a găsi un coforț cu o comoară în grădină? Bifează răspunsul.



Mai mult ca sigur.

Mai puțin probabil.

297. Încercuiește chipul posomorât.



296. Asociază starea cu o culoare.

furie

roz

gelozie

albastru

tristețe

roșu

rușine

portocaliu

energie

verde

298. Încercuiește expresia pe care o folosești atunci când ceri ceva.

Vă rog frumos!

Bună ziua!

La revedere!

Vreau asta!

Dă-mi asta!


299.

Încercuiește al șaptelea număr din dreapta.

9 8 7 6 5 4 3 2 1

300.

Încercuiește imaginea rumegetorului.



301.

Bifează operația a cărei valoare este egală cu $100 + 40 + 2$.

$50 + 50 + 42$

$60 + 40 + 2$

$100 + 20 + 4$


$200 + 20 + 2$

302.


Ce formă am început să desenăm cu creionul? Bifează pentru a o arăta.



(a)



(b)




(c)



(d)

303.

Încercuiește
imaginea formată
din două silabe.



7

304.

Taie numărul care
nu se potrivește.

120

246

237

468

305.

_____ sunt lucruri solide care se găsesc în natură
și sunt alcătuite din minerale.

Încercuiește varianta corectă pentru a completa enunțul.

a) Straturile Pământului


b) Rocile

c) Masa de apă

d) Buștenii

306.

Încercuiește obiectul care irosește
energia electrică.



307. Care dintre obiecte este mai greu? Taie răspunsul.




Bumbac


Magnet

Ambele au aceeași greutate.

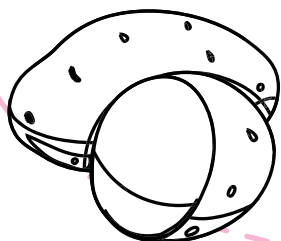
310. Colorează legumele-rădăcini cu verde, iar legumele-tulpini cu roșu.




morcov



ceapă



cartofi



ridiche

308. Încercuiește verbul.

furios

Europa

a se juca

fericire

309. Scrie numerele în ordine, de la cel mai mic la cel mai mare.

2100

1999

2000

1800



= _____

311. Încercuiește obiectul care folosește combustibil pentru a funcționa.



312.


Ce figură urmează?
Încercuiește.




A




B



C



D



313. Adjectivul arată numele
unei persoane, a unui
loc sau obiect. Bifează
răspunsul corect.



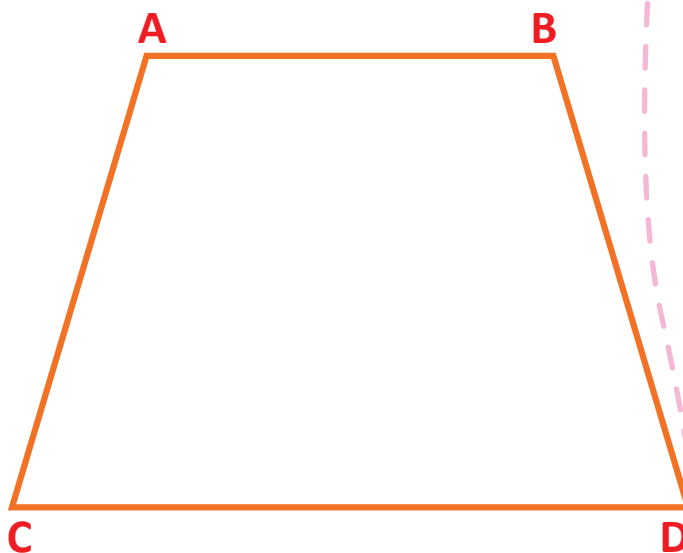
ADEVĂRAT

FALS



314.

Încercuiește liniile
paralele.



315.

Ce se întâmplă dacă apa este ținută la temperaturi
foarte joase, de exemplu -30°C ? Bifează răspunsul.

A îngheață




B se transformă în lavă

C rămâne la fel

D devine fierbinte


316.

Încercuiește obiectele care dăunează
privirii dacă te uiți prea mult la ele.



317.

Poți spune ce reprezintă
forma? Bifează.



câine



iepure



cal



pisică



318.

Găsești
cuvintele?

TOTDEAUNA, AZI, MÂINE, IERI

O	I	O	I	E	R	I	Y	P	Y
U	Z	P	T	D	T	O	D	A	Y
V	K	W	O	R	R	O	M	O	T
V	H	N	Q	X	J	R	Â	M	L
E	W	K	C	L	E	Y	I	U	Y
S	T	C	J	V	B	G	N	X	U
T	T	M	E	F	A	H	E	P	D
L	T	O	T	D	E	A	U	N	A
K	O	S	T	E	D	Z	B	W	L
F	Y	A	D	R	E	I	S	E	Y

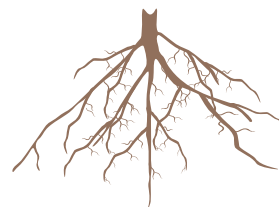
319.

Încercuiește cifra care ocupă poziția
cea mai mare din numărul de mai jos.


2 0 1 9 → 2 0 1 9

320.

Încercuiește două semne
ale toamnei.



321. Care este cel mai simplu mijloc de transport?



322. Rezolvă jocul de sudoku.

5	8		3	1	9			
	1		8			3	7	
9						1	8	
6	2				8		9	4
	9			5				
		8		9	6		1	3
	7	5			1		3	
			5		7	8	4	
1		2			3		5	

323. Ce spui atunci când cineva strănută?

- A) Mulțumesc!
- B) Îmi pare rău!
- C) Ieși afară!
- D) Sănătate!







324. Vezi vreo formă 3D? Scrie DA sau NU în casetă.



325.

Încercuiește animalul carnivor dintre cele de mai jos.



326.

Ce culoare se obține când amesteci galben cu albastru?

roșu


verde

portocaliu

violet

327.

Încercuiește vehiculele care merg pe șosea.



328.

Orice poveste scrisă din imaginația scriitorului, fără o bază reală, se numește _____.

Încercuiește răspunsul corect.

nonficțiune

ficțiune

legendă

cântec

329.

Completează numerele
care lipsesc.





4

8

12

331.

Încercuiește viețuitoarea
care are sânge albastru.



330.

Încercuiește
animalul nocturn.



332.

Care dintre aceste
continente este
cel mai locuit?
Bifează.

A. America de Sud



B. Australia

C. Antarctica

D. Asia

333.

Încercuiește rozătoarele.



RĂSPUNSURI

1. Bifează ADEVĂRAT
2. Se taie forma roz
3. Se bifează schiorul
4. reci
5. larg
6. se desenează linia mică la 12 și linia mare la 7
7. vii
8. Se bifează ALB
9. a
10. O (O fată cu codiță mănâncă un măr)
11. Se încercuiește broasca
12. Se taie pătratul negru
13. Vara mergem la mare și la munte
14. Se trasează o linie care trece prin mijlocul Pământului
15. 2
16. Se încercuiește prima imagine
17. Se bifează 1. Asia
18. Vai! Ești chiar tu?
19. amărui; cinstit; hotă; inimă; oră; speranță (4 - 2 - 6 - 5 -1 - 3)
20. Se încercuiește ultima pasăre
21. Se încercuiește a doua imagine de pe prima coloană
22. D
23. Se încercuiește mingea
24. a.
25. Se încercuiește pupa
26. Se încercuiește ridichea
27. Se bifează Soarele
28. al șaselea
29. Se încercuiesc toate imaginile cu excepția plămânilor
30. Se bifează caseta roșie
31. Se colorează delfinul
32. a
33. 13
34. Se potrivesc: ficatul cu sistemul digestiv, plămânii cu cel respirator, rinichii cu sistemul excretor și oasele cu cel osos
35. Se încercuiește ultima imagine
36. Se bifează primele trei țări
37. a și c
38. Se încercuiește tulpina
39. Se încercuiesc celulele
40. Lipsește o pată la vacă; o rață privește într-o altă direcție; altă rață nu are o aripă; gura iepurelui; coada oii; smocul de pe fruntea calului
41. fete, pisici, inele, lacuri, scriitori, case
42. Se bifează d
43. Se încercuiesc delfinul și balena
44. Se bifează 365
45. Se încercuiește forma de stea
46. Se bifează prima imagine
47. Se bifează ultraviolete
48. Se încercuiesc mingea și cărțile
49. Sud-Est
50. Se taie luna
51. Se încercuiește primul băiat
52. Se încercuiește prima formă
53. Se bifează piept
54. Se încercuiesc cartoful și porumbul
55. Se completează imaginea
56. c
57. A: atmosfera, B: hidrosfera, C: litosfera, D: biosfera
58. CLOROFILA
59. Se încercuiește ventilatorul
60. 3
61. a. 7,0; b. 5,6; c. 0; d. 11
62. Se încercuiește ursul

63. Se bifează băiatul care trage cutia
64. Se încercuiește ridichea
65. a
66. semicerc
67. cuboid
68. Se bifează a și d
69. Se subliniază avion, cerb, dreapta, degete
70. 2/4
71. FRUNZE. Elefantul mănâncă frunze
72. H₂O, CO₂, O₂, O₃
73. con și cub
74. Se bifează A
75. 100, 1000, 1000, 1000
76. roca
77. Australia
78. țipar
79. b și c
80. 3; 16
81. Se bifează FALS
82. a. evaporarea; b. condensarea; c. precipitațiile
83. Se bifează ADEVĂRAT
84. A
85. 10, 20, 30
86. merg, vreau, vrea, doresc
87. Se încercuiește Taj Mahal
88. adverb de loc și de mod
89. Se încercuiește untul
90. 2
91. Se încercuiesc calul, măgarul și boul
92. 100 + 25, 150 – 25
93. Se unesc punctele pentru a se obține elefantul
94. Se bifează A
95. Se încercuiește copacul
96. Se bifează Pluto
97. Se încercuiește copilul care se uită la TV
98. Se bifează b
99. Se bifează 7
100. Se taie păduchele
101. Se încercuiește avionul
102. Se bifează a
103. Se bifează NU
104. 7.45 PM, 2.20 PM, 4.35 PM
105. Se încercuiesc ochelarii, foarfeca și pantalonii
106. Se bifează B
107. Se bifează D
108. Se încercuiește C
109. Se bifează 36 lei
110. Se bifează a
111. Se încercuiesc apa și lemnul
112. Se taie sticla de apă
113. jo
114. Se încercuiește a
115. Se încercuiește bradul
116. Se bifează B
117. Se încercuiește 15
118. Se bifează a
119. Se încercuiește 11
120. Se încercuiesc diamantul, lemnul și cuburile lego
121. Se încercuiesc scheletul de dinozaur și mumia
122. Se bifează 1
123. Se vor căuta cuvintele în careu. Pe orizontală: muscă, șopârlă, fluture; pe verticală: albină
124. A. <, B. >, C. =, D. =
125. Se taie struțul
126. Se încercuiește Jupiter
127. Se taie cercul
128. CONTINENTE
129. Se bifează A
130. Se încercuiește ghepardul
131. Se încercuiește DA
132. Se bifează B
133. 1. Opinie; 2. Fapt
134. Se bifează C și D
135. vibrații
136. Tropicul Racului

137. Se încercuiește al doilea băiat
 138. Se taie mânușile și papucii
 139. Se trasează o linie de la cub la 6
 140. Se taie plămâni
 141. Se bifează ADEVĂRAT
 142. Se încercuiește C
 143. frecarea
 144. Se încercuiește 2
 145. lavă
 146. Se bifează D
 147. Se încercuiesc urechile
 148. Se încercuiesc: Ă; A, I, U, Ă; U, E, Ă; I, A, Ă
 149. Se taie 0
 150. Se încercuiește câinele
 151. Se bifează aluminiul
 152. Se încercuiește A
 153. Se încercuiește Neptun
 154. Se încercuiește dreptunghiul
 155. Se încercuiește bufnița
 156. Se bifează D
 157. Se încercuiește A
 158. mingi, table, creioane, lumânări
 159. Se bifează C
 160. Se încercuiește imaginea pădurii
 161. Spălarea dinților
 162. 550
 163. Se unesc punctele de la 5 la 95 pentru a completa dovleacul
 164. Se bifează B
 165. Se încercuiește paharul cu lapte
 166. Se bifează D
 167. banc, roi
 168. Se încercuiește b
 169. Se taie A
 170. Se încercuiesc norii
 171. Se trasează drumul până la măr
 172. Se bifează B
 173. Se bifează a
 174. Se bifează A
 175. Se bifează B

176. Se încercuiește FALS
 177. Se încercuiește B
 178. Se încercuiesc spanacul și morcovul
 179. Se bifează B

180.

9	6	4	3	2	7	8	1	5
2	1	7	9	8	5	6	4	3
3	8	5	4	6	1	9	2	7
6	3	1	7	9	2	4	5	8
5	9	8	1	4	3	2	7	6
4	7	2	6	5	8	1	3	9
7	4	9	2	3	6	5	8	1
1	5	6	8	7	4	3	9	2
8	2	3	5	1	9	7	6	4

181. Se bifează B
 182. Se bifează B
 183. Se încercuiește prima imagine
 184. Se încercuiesc burgerul și cartofii
 185. Se taie cutia cu vopsea
 186. di, do, dez, dez
 187. Se încercuiește 15,00
 188. Se încercuiește mușuroiul
 189. Se bifează ADEVĂRAT
 190. Se încercuiesc găina și iepurele
 191. Se scrie b
 192. Se bifează D
 193. Se taie FALS
 194. Se bifează A, B și C
 195. Se încercuiește elefantul
 196. Se încercuiește b
 197. Se bifează C
 198. Se încercuiesc vasul de lut și conserva
 199. Se bifează Mercur
 200. Se completează a doua jumătate
 201. Se încercuiește imaginea cucului
 202. litru
 203. Nu
 204. Se încercuiește roșu
 205. Se încercuiește 22
 206. Se încercuiește 36 de ore
 207. Se încercuiește mărul

208. Se încercuiește frunza
209. Se bifează c
210. Se încercuiește b
211. Se încercuiește b
212. Se bifează B
213. Se încercuiește b
214. Se încercuiește a
215. RECOLTARE
216. Se bifează coada
217. Se încercuiesc b, c și d
218. Se bifează soarele
219. Se bifează d
220. Se încercuiește a
221. MELANINĂ
222. Se taie c
223. ouă: 1, omidă: 2, crisalidă: 3, fluture: 4
224. Se încercuiesc 1 și 4
225. a. 6, b. 4, c. –, d. 10
226. ,
227. Se bifează b
228. Se încercuiește ghepardul
229. bine-crescut
230. Se unesc punctele alcătuind un dreptunghi (cele două puncte de la mijloc nu se unesc pe verticală)
231. Se bifează cercul și triunghiul
232. Se bifează a
233. Se încercuiește b
234. Se încercuiește prima imagine
235. A. Se repetă pătratul; B. Se desenează imaginea în oglindă a cercului
236. Se încercuiește a
237. Se încercuiește a treia opțiune
238. Se încercuiește ultima imagine
239. SPIȚE
240. Se încercuiește a doua umbră
241. Unicorn
242. Se bifează b
243. Se potrivesc sunetele cu animalele
244. Se taie unicornul, dragonul și extraterestrul
245. 29 februarie
246. Se încercuiește plasa de fluturi
247. Se bifează 4/10
248. A: LICHID; B: SOLID; C: GAZ
249. Se taie câne, căduros și bijutere
250. Cu prefix: dezghețat, reculegere, antifurt, anticameră
Cu sufix: norișor, fierărie, inimioară
251. Se încercuiește dicționarul
252. Se bifează ADEVĂRAT
253. roșu: rubin, albastru: safir, verde: smarald, alb: diamant, violet: ametist
254. Se încercuiește ultima imagine
255. Se colorează traseul de la albină la stup
256. Orizontal: URS, PISICA, VULPE, CROCODIL
Vertical: PAPAGAL
257. 15
258. Se încercuiesc ochelarii
259. Se bifează B
260. Se încercuiește băiatul cu cartea
261. Se bifează a
262. Se taie 15
263. Se încercuiește tricoul negru
264. Se încercuiește cărămida
265. Se bifează 4 PM
266. Se taie coșmar
267. culoarea fluturelui, direcția greierului, musca din copac, gura omizii, corpul păianjenului, picioarele furnicii
268. Se taie a
269. Se încercuiește ultima minge
270. Se încercuiește 10
271. Se bifează interpretează
272. Se încercuiește segmentul de la A la C
273. Se taie Nord
274. Se încercuiește furtul
275. Se trece poziția fiecărei litere în alfabet
276. zăpușeală și bucurie
277. $\frac{1}{2}$
278. Se bifează veterinarul

279. Se încercuiesc crocodilul, dinozaurul și țestoasa
280. Se bifează vaca
281. Se încercuiesc C, N, S și N
282. Se încercuiesc pastilele
283. Se încercuiește peștele
284. Se completează imaginea vulturului
285. Se bifează „Care este numele tău?”
286. Se taie și, sau, așadar, dar, nici, ci, deoarece
287. Se bifează „Nu iei bomboana”
288. respiri
289. Se încercuiește leul
290. 27
291. Se încercuiesc broasca și peștele
292. Se încercuiesc pietrele
293. Se colorează potrivit codului de culori
294. Se încercuiește prima imagine
295. Se bifează „Mai puțin probabil”
296. furie: roșu, gelozie: verde, tristețe: albastru, rușine: roz, energie: portocaliu
297. Se încercuiește ultima imagine
298. Se încercuiește: „Vă rog frumos!”
299. Se încercuiește 7
300. Se încercuiește girafa
301. Se bifează prima sumă
302. Se bifează b
303. Se încercuiește 7
304. Se taie 237
305. Se încercuiește b
306. Se încercuiește a doua imagine
307. Se taie: Ambele au aceeași greutate
308. Se încercuiește verbul a se juca
309. 1800, 1999, 2000, 2100
310. legumele-rădăcini: morcov și ridiche; legumele-tulpini: cartof și ceapă
311. Se încercuiește butelia cu gaz
312. D
313. Se bifează FALS
314. Se încercuiesc AB și CD

315. Se bifează A
316. Se încercuiesc computerul și telefonul mobil
317. Se bifează pisica

318.

O	I	O	I	E	R	I	Y	P	Y
U	Z	P	T	D	T	O	D	A	Y
V	K	W	O	R	R	O	M	O	T
V	H	N	Q	X	J	R	Â	M	L
E	W	K	C	L	E	Y	I	U	Y
S	T	C	J	V	B	G	N	X	U
T	T	M	E	F	A	H	E	P	D
L	T	O	T	D	E	A	U	N	A
K	O	S	T	E	D	Z	B	W	L
F	Y	A	D	R	E	I	S	E	Y

319. Se încercuiește 2
320. Se încercuiesc frunza și strugurii
321. Se încercuiește bicicleta
- 322.
- | | | | | | | | | |
|---|---|---|---|---|---|---|---|---|
| 5 | 8 | 7 | 3 | 1 | 9 | 4 | 2 | 6 |
| 2 | 1 | 4 | 8 | 6 | 5 | 3 | 7 | 9 |
| 9 | 3 | 6 | 2 | 7 | 4 | 1 | 8 | 5 |
| 6 | 2 | 1 | 7 | 3 | 8 | 5 | 9 | 4 |
| 4 | 9 | 3 | 1 | 5 | 2 | 7 | 6 | 8 |
| 7 | 5 | 8 | 4 | 9 | 6 | 2 | 1 | 3 |
| 8 | 7 | 5 | 6 | 4 | 1 | 9 | 3 | 2 |
| 3 | 6 | 9 | 5 | 2 | 7 | 8 | 4 | 1 |
| 1 | 4 | 2 | 9 | 8 | 3 | 6 | 5 | 7 |
323. Se bifează D
324. Da, borcanul
325. Se încercuiește leul
326. Se încercuiește verde
327. Se încercuiesc scuterul, mașina și camionul
328. Se încercuiește ficțiune
329. 16,20
330. Se încercuiește liliacul
331. Se încercuiește caracatița
332. Se bifează D
333. Se încercuiesc șoricelul și porcușorul de Guineea