

**MICILE
GENII
JOCURI
DISTRACTIVE**

EDITURA PROBLEMA 45

Exerciții și soluții de
Gareth Moore

Ilustrații de Jess Bradley
și Adam Linley



Design: Tall Tree





**MICILE
GENII
JOCURI
DISTRACTIVE**

Editura Paralela 45

Traducere și redactare: Maria-Magdalena Trandafir
Corectură: Mihaela Cosma
Tehnoredactare & DTP copertă: Mihail Vlad
Pregătire de tipar: Marius Badea

Descrierea CIP a Bibliotecii Naționale a României
Micile genii : jocuri distractive. – Pitești : Paralela 45, 2024
ISBN 978-973-47-4178-6
37



Brain Teasers for Bright Sparks
Gareth Moore
Jocuri și soluții © Gareth Moore 2022
Ilustrații și layout © Buster Books 2022


Copyright © Editura Paralela 45, 2024
Prezenta lucrare folosește denumiri ce constituie mărci înregistrate, iar conținutul este protejat de legislația privind dreptul de proprietate intelectuală.
www.edituraparelela45.ro

1 POTRIVIREA FORMELOR

Mai jos găsești șase forme întregi, dar și câte o jumătate din fiecare.

Unește fiecare formă cu jumătatea corespunzătoare.

Prima pereche a fost unită deja, pentru a vedea cum se face.



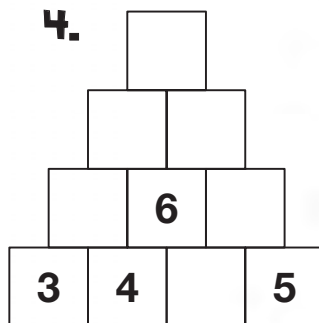
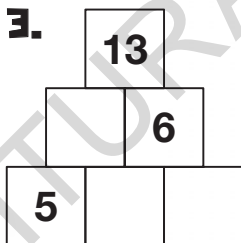
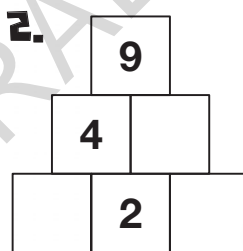
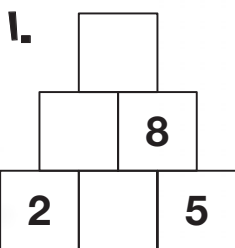
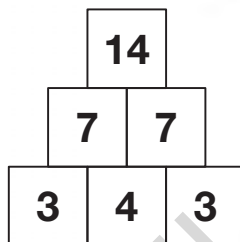
2

TESTUL PIRAMIDEI

Completează spațiile libere din cele patru piramide.

Fiecare căsuță trebuie să conțină un număr egal cu suma celor două numere aflate dedesubt. Astfel, în exemplu, 14 din vârf reprezintă suma dintre 7 și 7, aflate imediat dedesubt.

EXEMPLU:



TIMP



.....

E

DOAR TREI LA RÂND

Completează cu „X” ori cu „O” în fiecare căsuță goală, în așa fel încât să nu ai mai mult de trei de „X” ori mai mult de trei de „O” pe aceeași linie, oricare ar fi direcția, inclusiv pe diagonală.

EXEMPLU:

○	×	×	○	×
○	○	○	×	×
○	×	○	×	○
×	×	○	×	×
×	×	×	○	×

1.


	×	×	○
×	×	○	○
×		○	
×	×	○	○





2.

X	X	O	O	O
O	O		O	
O	X	O		O
O	X		X	X
	O	O	X	O




4

LANȚUL DOMINO

Completează acest circuit prin înlocuirea fiecărui spațiu gol cu câte o piesă din partea de jos. Piesele de domino trebuie puse în așa fel încât fiecare capăt să se afle lângă unul cu același număr de puncte.

Două piese rămân nefolosite.



5

TEST DIN APELE LUMII

1. Care dintre oceanele lumii este mereu acoperit de gheață?

- a. Oceanul Indian b. Oceanul Pacific
c. Oceanul Arctic d. Oceanul Atlantic

2. Peștele-ciocan, marele alb, tigrul-de-nisip și mako sunt specii de...

- a. Delfin b. Meduză c. Calmar d. Rechin

3. Cum se numește cea mai mare structură vie din lume găsită pe fundul apelor, pe coasta de est a Australiei?

- a. Marea Barienă de Corali b. Cuibul gigant de corali
c. Creasta Pacificului d. Muntele submarin

4. A câta parte din suprafața Pământului este acoperită de ape?

- a. Mai puțin de un sfert b. O treime
c. Aproximativ jumătate d. Mai mult de două treimi

5. Datorită cui apare marea, fenomenul care face ca apa mării să înainteze sau să se retragă zi de zi?

- a. Marte b. Luna
c. Extraterestrii d. Oamenii care sar

TIMP

