

10×5

9×5

$84 : 12$

$45 : 5$

5×2

LABIRINTURI MATEMATICE

Înmulțiri
și împărțiri

Angelika Scudamore

Traducere din limba engleză
de Theodora-Eliza Văcărescu

CORINT BOOKS

Cum folosești această carte



Bine ai venit în lumea fascinantă a labirinturilor
cu înmulțiri și împărțiri!

Această carte de activități este plină de imagini captivante care
te ajută să înveți cele mai importante lucruri despre înmulțire
și împărțire, într-o manieră plăcută, ușoară și rapidă.

Găsește punctul de START
al fiecărui labirint și citește
instrucțiunile care te vor
ajuta să-l rezolvi.

Rezolvă operațiile și
apoi alege calea corectă
pentru a ajunge la capătul
labirintului.

Împărțire la 8
Rezolvă problemele și urmează
drumul cu răspunsuri corecte pentru
a-ți conduce pe cumpărători la casă.

Start

Indiciu
Nu uita că
împărțirea
este operația
inversă
înmulțirii.

Sosire

CASĂ

Unele jocuri au un *Indiciu*
care te ajută să găsești
soluția.

Dacă nu știi pe unde s-o
iei, te poți uita la secțiunea
„Răspunsuri” de la finalul cărții.



Adunarea repetată, primul pas spre înmulțire

Condu-o pe micuța zână la casa ei în formă de ciupercuță. Urmează drumul cu numere duble. Ai mare grijă să nu te întâlnești cu șireții gnomi!



Start

$2+4$

$3+3$

$3+4$

$8+8$

$6+6$

$4+4$

$5+5$

$9+8$

Indiciu

Dublul unui număr se află adunând numărul respectiv cu el însuși.



Sosire

$17+7$



$16+6$

$9+9$



$5+6$

$1+1$

$2+2$



$7+7$

$20+30$



$8+9$



$10+12$



$12+12$

$3+5$



Multiplii lui 2

Ajută-l pe micuțul astronaut să ajungă înapoi la racheta lui. Urmează drumul cu numere care sunt multipli de 2.



Start

2

16

7

9

8

12




15

23

6

Indiciu

Multiplul lui 2 se obține prin înmulțirea unui număr cu 2.





20

17

1

5

10

22

4

3

18

6

25

13

14

Sosire

7

Înmulțiri cu 2

Ajut-o pe fetiță să-și găsească prietena pe terenul de skateboard. Află rezultatele operațiilor și urmează drumul cu răspunsuri corecte.



Start

2×4

14

2×6

14

10

12

2×5

12

8

8

24

2×12

22



Indiciu

$2 \times 3 = 3 + 3$
(de două ori 3)

$2 \times 4 = 4 + 4$
(de două ori 4)



2×2

3

4

2×7

18

2×10

2

16

21

14

2×8

20

2

18

2×1

1

2×9

19

Sosire

Împărțiri la 2

Băiețelul este tare grăbit. Trebuie să ajungă la cinematograful înainte să înceapă filmul. Rezolvă operațiile și urmează drumul cu răspunsuri corecte.



Start

$4:2$

2

$12:2$

10



12

$10:2$

5



8

$4:2$

6



2

4



$22:2$

11



14

12



6

$24:2$



$16:2$

8



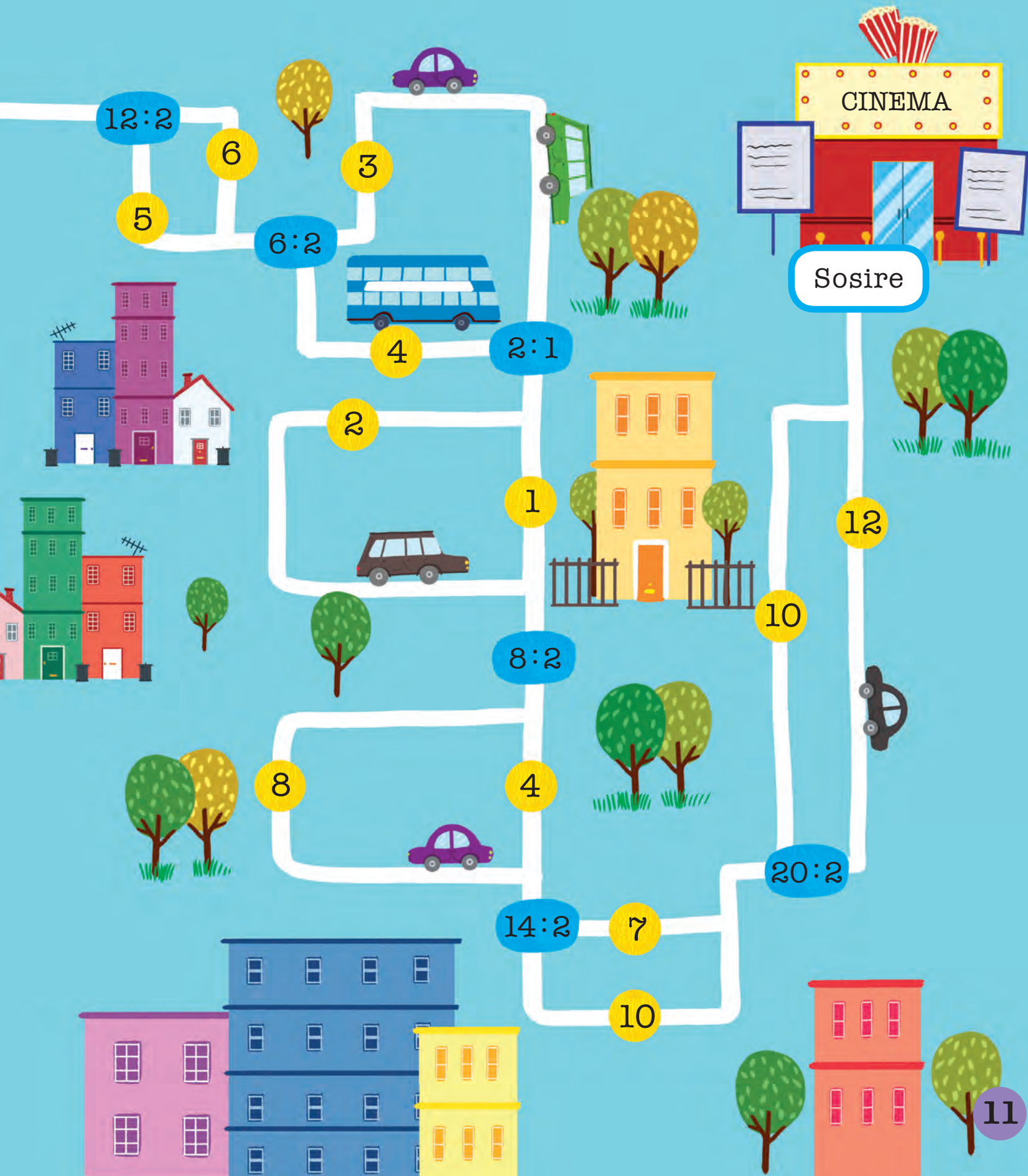
6

Indiciu

Împărțirea la 2 este același lucru cu înjumătățirea numărului dat.

10





CINEMA

Sosire

12:2

6

5

6:2

3

4

2:1

2

1

12

10

8:2

8

4

20:2

14:2

7

10

11

Multiplii lui 10

Ajută-l pe micul cavaler să ajungă la căluțul său. Urmează numerele care sunt multipli de 10.



Start



Indiciu
Multiplii lui 10
au cifra unităților
0 (adică se
termină în 0).



75

32

80

81

65

50

20

110

10

85

120

Sosire

13

Înmulțiri cu 10

Băiețelul de-abia așteaptă să schieze. Ajută-l să găsească drumul până la telesaun, rezolvând operațiile și urmând calea cu răspunsuri corecte.



10×4

Start

40

44

100

10

10×10

10×9

19



50

90

55

10×5

Indiciu
Multiplii lui 10
au cifra unităților
0 (adică se
termină în 0).



100

10x1

30

102

10x12

10

10x3

120

33

110

Sosire

10x11

111

Împărțiri la 10

Elefântelului îi este tare sete. Îl poți ajuta să găsească drumul spre cascadă, rezolvând operațiile de împărțire și urmând calea cu răspunsuri corecte.



Start

$40 : 10$

10

5

$50 : 10$

500

$70 : 10$

4

70

20

$120 : 10$

12

3

$30 : 10$

6

16

Indiciu

Reține că
împărțirea este
operația inversă
înmulțirii:
 $7 \times 10 = 70$
 $70 : 10 = 7$



7

8

60

$80 : 10$

$60 : 10$

Sosire

88

1

2

6

10

$20 : 10$

$100 : 10$

22

90

$90 : 10$

9

17



Multiplii lui 5

Ajută cămila să traverseze deșertul și să ajungă la oază.
Urmează numerele care sunt multipli de 5.



Start

20

17

58

65

30

23

45

14

Indiciu

Multiplii lui 5 au cifra unităților 0 sau 5 (adică se termină în 0 sau în 5).



59

10

5

Sosire

25

15

50

36

28

35

19

54

19

Înmulțiri cu 5

Călăuzește-i pe cei trei copii spre ieșirea din labirint. Rezolvă operațiile și ia-o pe drumul cu răspunsuri corecte.



Start

5×5

55

5×4

20

5×1

5

25

35

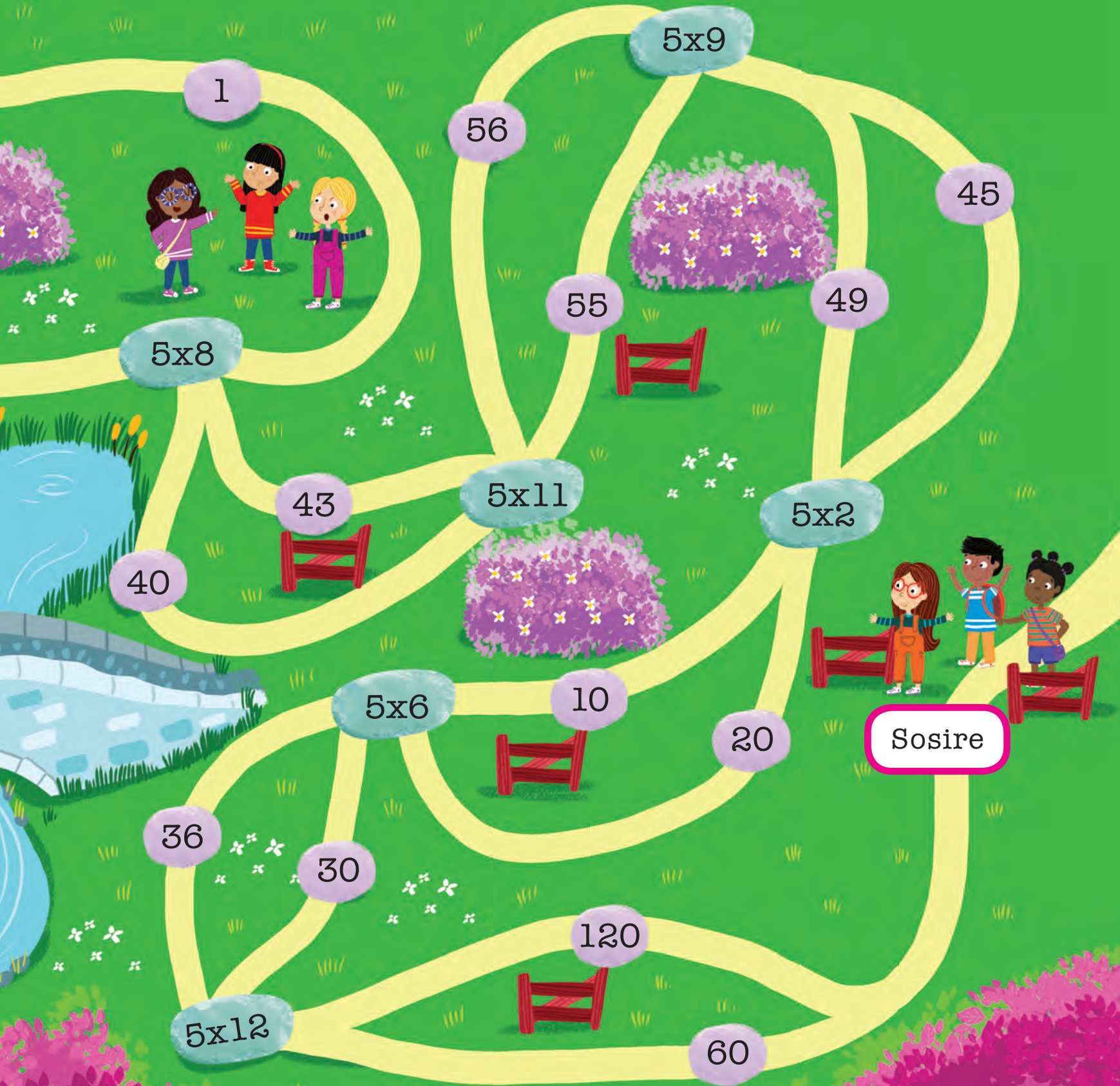
25

30

5×7

Indiciu

Încearcă să
numeri din
5 în 5.



1

5x9

56

45

5x8

55

49

43

5x11

5x2

40

5x6

10

20

Sosire

36

30

120

5x12

60