




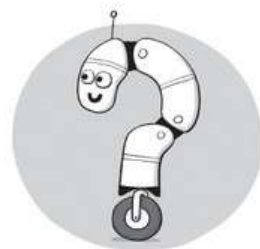
Căsuțele ascunse

Găsește următorul grup de patru căsuțe în tabelul de mai jos.



Tabelul cu numere

Completează căsuțele libere cu numere, astfel încât fiecare rând, fiecare coloană și fiecare careu format din nouă căsuțe să conțină o singură dată numerele de la 1 la 9.




	4			7	2			9
8			9	3	4	5		
		3	6					
2			4	5				3
		4			7			9
			2			8	4	6
1		7		8	6			
		8			1		7	
			7	2	9		8	3



Puncte-puncte

Poți desena linii drepte care să unească toate cele nouă puncte de mai jos, fără să ridici creionul de pe hârtie?



Urme prin pădure

Ajută cercetașii să obțină insignele de orientare îndrumându-i prin labirintul pădurii, înapoi în tabără.







Jos pălăria

Elena își dorea o nouă pălărie. În magazin, ea a probat toate modelele, apoi le-a rearanjat la întâmplare, cu excepția pălăriei pe care a cumpărat-o. Privește vitrinele de mai jos și află ce pălărie a cumpărat Elena.

Înainte



După



Cărămidărie

Completează fiecare căsuță liberă cu un număr de la 1 la 6. Fiecare număr trebuie să apară o singură dată pe fiecare rând și pe fiecare coloană. În fiecare pereche de căsuțe despărțite de o linie punctată, o căsuță trebuie să conțină un număr par, iar cealaltă – un număr impar.



		5	2		1
5		1	6		4
	1		3		6
3					2
1	6			4	3
	4	3	1		