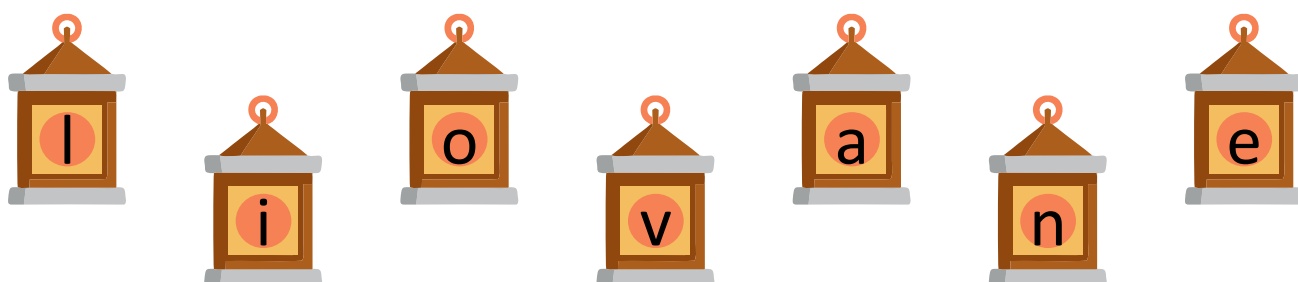



Fișa 1

1 Unește litera mare cu litera mică.



2 Alege silaba care se potrivește fiecărui cuvânt.

- LU - NA

- NA

I - NI -



LU

A

LO

MA

AN

3 Încercuiește cuvântul care denumește fiecare imagine.



CASĂ MASĂ

CARNE CARTE

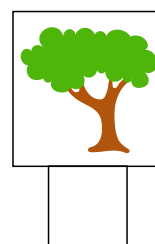





LAMPĂ LIMBĂ

Fișa 2

1 Numără în ordine crescătoare, apoi descrescătoare.


0	2				10
1					
10					0
9					

2 Numără și completează câte obiecte de fiecare fel sunt.




Fișa 3

1 Completează cu litera inițială.



LICE



UCĂ



MIDĂ



ULPE

2 Bifează propoziția care se potrivește imaginii.



NINA ARE UN NAI.

NINA ARE NARCISE.



VICTOR IA O NUCĂ.

VICTOR IA O MAȘINĂ.



EMA SCRIE PE CAIET.

EMA SARE COARDA.



ONU STĂ PE SCAUN.

ONU STĂ ÎN CORT.

Fișa 4

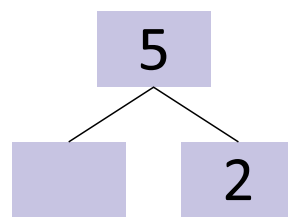
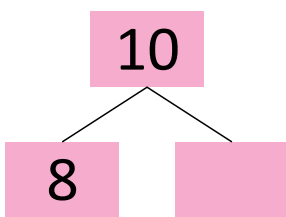
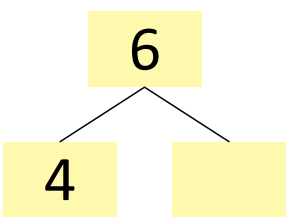
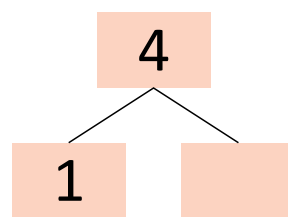
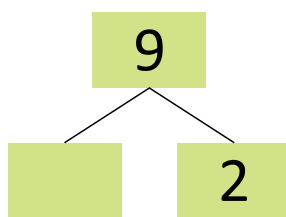
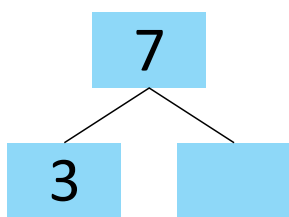
1 Scrie vecinii numerelor.



2 Încercuiește numărul mai mare din fiecare pereche.



3 Descompune numerele.



Fișa 5

1 Numără din 2 în 2.

	2			8	
1			7		


2 Compune numerele.

6	4	2	7	1	6
↓		↓		↓	
□		□		□	
5	4	2	6	3	3
↓		↓		↓	
□		□		□	



3 Încercuiește rezultatul corect pentru fiecare desen.



5 8 3



4 6 7




7 8 9

Fișa 6


- 1 Încercuiește prima literă a cuvintelor redade în imagini.



M U Ț



M U Ț



M U Ț

- 2 Scrie cuvântul corespunzător fiecărei imagini.



- 3 Subliniază propoziția care se potrivește cu imaginea dată.

Martina are miere.

În coș sunt mere.

Martina are un coș cu mure.



Fișa 7

Adunarea și scăderea numerelor de la 0 la 20, fără trecere peste ordin

1 Completează fiecare șir cu numerele care lipsesc.

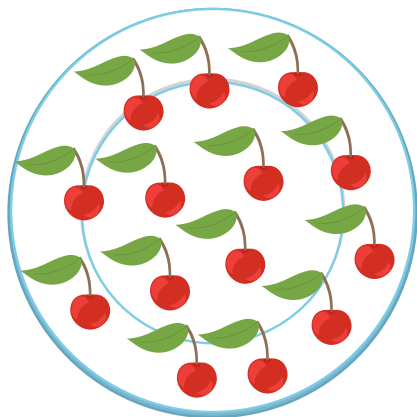
8	9			12			
13			16				
	19		17				
12							5

2 Încercuiește rezultatul corect.


$10 + 5 = 15$	16	$19 - 2 = 16$	17
$11 + 4 = 14$	15	$17 - 4 = 13$	14
$12 + 2 = 13$	14	$14 - 3 = 11$	12
$13 + 5 = 17$	18	$18 - 5 = 13$	14

3 Bifează rezolvarea corectă.

Tudor a cules:



Ana a cules:




Câte cireșe au cules împreună?

$14 - 3 = 11$ (cireșe)

$14 + 3 = 17$ (cireșe)

Fișa 8

1 Încercuiește cuvântul corespunzător fiecărei imagini.




rinocer

rață



buză

buburuză



găină

gâscă

2 Alege una dintre literele date și scrie-le la locul potrivit pentru a forma cuvinte.


g

r


b



_ândunică



_arză



_ăină



cui_




stea_




palmie_

Fișa 9


1 Unește fiecare mulțime de elemente cu numărul corespunzător.



17



26



21

2 Încercuiește numărul care urmează în fiecare șir de numere.

16 17 18 19 21 20

10 12 14 16 17 18

31 30 29 28 27 26

26 24 22 20 19 18

3 Completează fiecare casetă cu un număr potrivit.

$30 < \square$

$31 > \square$

$30 = \square$

$24 > \square$

$15 = \square$

$\square < 17$

$\square < 20$

$\square > 29$

$\square > 21$

Fișa 10

Adunarea și scăderea numerelor de la 0 la 31, fără trecere peste ordin

1 Calculează cu ajutorul abacului sau al bețișoarelor. Scrie rezultatul corect.

$$23 + 3 = \square$$

$$28 - 4 = \square$$

$$21 + 5 = \square$$

$$24 - 3 = \square$$

$$24 + 2 = \square$$

$$25 - 1 = \square$$



$$28 + 1 = \square$$

$$29 - 5 = \square$$

$$22 + 4 = \square$$



$$26 - 2 = \square$$

2 Încercuiește operația prin care se rezolvă fiecare problemă.

La petrecerea de pe lac au venit 25  și 4  .
Câte animăluțe au participat la petrecere?

a. $25 - 4 = 21$ (animăluțe)

b. $25 + 4 = 29$ (animăluțe)

La venirea toamnei, 27 de  s-au pregătit de plecare. Au rămas pe lac 2  .
Câte lebede au zburat spre țările calde?

a. $27 - 2 = 25$ (lebede)

b. $27 + 2 = 29$ (lebede)

Fișa 11

- 1 Completează cu litera Î sau Â și citește cuvintele obținute.



LUM__NARE



__MBUJORAT



A COBOR__



M__NCARE



Z__NĂ



G__ZE



R__DE

- 2 Unește fiecare propoziție cu imaginea potrivită.
La fiecare propoziție, încercuiește litera inițială din fiecare cuvânt. Ce observi?



COPIII CÂNTĂ.



TANIA TAIE TORTUL.

DORU DĂRUIEȘTE DARUL.

CLOVNUL COLOREAZĂ
COIFURILE.



Fișa 12

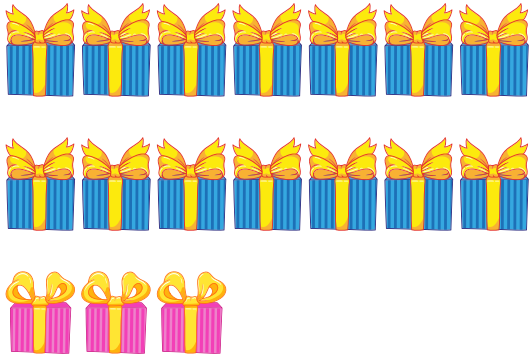
1 Bifează șirurile corecte.

16 17 18 19 20 21 22 31 30 29 15 28 27 26


10 9 8 7 6 5 21 0 5 10 15 20 25 30

28 26 24 22 20 18 16 16 10 17 18 19 20 21


2 Completează cu rezultatul potrivit.




$14 + 3 = \square$



$20 + 4 = \square$



$18 - 3 = \square$



$14 - 5 = \square$

Fișa 13

1 Bifează doar exercițiile rezolvate corect. Folosește socotitoarea sau obiecte mici pentru a calcula.

$8 + 5 = 11$

$16 + 5 = 21$

$21 - 3 = 18$

$19 - 4 = 15$

$7 + 3 = 10$

$17 + 4 = 20$

$12 - 5 = 5$

$28 - 5 = 23$

$26 + 5 = 31$

$14 - 5 = 9$

2 Completează fila de calendar a lunii august cu numerele care lipsesc.

AUGUST						
LUNI	MARȚI	MIERCURI	JOI	VINERI	SÂMBĂȚĂ	DUMINICĂ
1	2	3			6	7
		10	11		13	
15	16			19		21
	23	24		26		
29		31				

3 Citește fiecare problemă, apoi taie operația care nu se potrivește.

Dimineață, Martina a scris 9 invitații, iar după-masă a scris 4 invitații.

$9 - 4 = 5$

Câte invitații a scris în total?

$9 + 4 = 13$



La petrecere sunt 21 de invitați. 2 dintre ei doresc limonadă, iar restul doresc suc de mere.

$21 - 2 = 19$

$21 + 2 = 23$

Câți invitați doresc suc de mere?



Fișa 14

1 Completează fiecare cuvânt cu litera care lipsește.



STRO ____



____ OARE



RO ____



____ URNICĂ



CO ____ IL



COI ____



____ LOAIE



____ AMBILĂ

2 Unește cuvintele cu sens opus.

SENIN

NOAPTE

PLEACĂ

ZIUĂ

VINE

ÎNNORAT

3 Taie cuvintele ce nu se potrivesc în biletul lui Țep.

UȚA,



MULȚUMESC DE INVITAȚIE CIREȘE. VOI
VENI TORT ÎN PĂDURE. VOI SOARE ADUCE
NIȘTE MORCOVI DELICIOȘI.



ȚEP VERDE


Fișa 15

1 Taie denumirea greșită pentru fiecare figură sau corp geometric.



DREPTUNGHI

CERC



SFERĂ

CERC



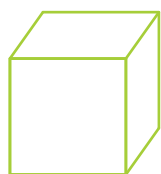
PĂTRAT

DREPTUNGHI




TRIUNGHI

CUB



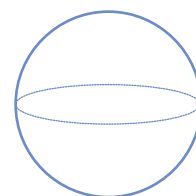
PĂTRAT

CUB



CUBOID

SFERĂ



SFERĂ

TRIUNGHI

2 Citește fiecare problemă și bifează operația corectă.

▶ Buburuza a desenat 18 pătrate galbene și 5 roșii.
Câte pătrate a desenat Buburuza în total?



$18 + 5 = 21$

$18 - 5 = 23$

$18 + 5 = 23$

▶ Copiii au desenat pe asfalt 31 de cercuri colorate. Ploaia a șters 4 cercuri.
Câte cercuri nu au fost șterse de ploaie?




$31 - 4 = 27$

$31 + 4 = 35$

$31 - 4 = 24$

Fișa 16

- 1 a) Bifează literele care compun denumirea legumei din imagine.



A L R N P
 I C D S E

- b) Scrie în casetă denumirea legumei.

- 2 Separă cu linii cuvintele propozițiilor.

ANAAREUNCOȘCUFRUCTE.

ANDREIAUDATFLORILE.

NOICUMPĂRĂM CARTOFIȘICASTRAVEȚI.

BUNICAGĂTEȘTESUPĂDELEGUME.


- 3 Unde s-au ascuns literele H, J și Ș? Încercuiește-le.




Fișa 17

Numere și operații cu acestea


1 Unește fiecare imagine cu operația potrivită.



$26 + 4$



$20 - 4$



$17 + 5$



$12 - 3$

2 Încercuiește rezultatul corect al fiecărei operații.

$26 + 4$

- 22 29 30

$17 + 5$

- 20 21 22

$20 - 4$

- 17 16 15

$12 - 3$

- 9 10 15

Fișa 18

- 1 Descoperă în careu numele personajelor cu care te-ai jucat în acest caiet. Încercuiește-le.

C	L	I	N	U	H	G	N	D	Q
P	B	M	J	Ț	E	P	M	R	F
T	R	V	M	Ă	R	T	I	N	A
R	Ă	Ț	U	Ș	C	A	F	Z	L
A	J	U	C	Ă	U	Ș	U	L	W
V	N	B	I	M	-	B	U	M	T
H	Ă	R	N	I	C	U	Ț	A	B
Ș	T	R	E	N	G	A	R	U	L

- 2 Completează alfabetul viețuitoarelor.

ALBINĂ

B _____

C _____

DROMADER

E _____

F _____

G _____

H _____

I _____

JAGUAR

KOALA

L _____

M _____

NURCĂ

O _____

P _____

RÂS

S _____

Ș _____

T _____

Ț _____

U _____

V _____

Z _____

Fișa 19

1 Bifează cuvântul potrivit fiecărei imagini.



CARTE

CURTE



PÂINE

CÂINE



CASĂ

CANĂ



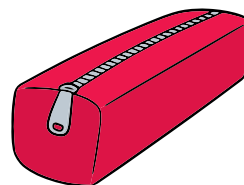
COPAC

COLAC

2 Scrie literele care completează cuvintele.



FLU __ UR __



__ E __ R



U __ BR __ L __



P __ N __ LO __ I

3 Unește fiecare obiect cu însușirea potrivită.



- PROASPETE
- ASCUȚITE
- MOALE
- INTERESANTĂ

Fișa 20

1 Colorează bulina din dreptul operațiilor rezolvate corect.

$23 + 2 = 25$

$31 - 2 = 30$

$19 + 5 = 25$

$22 - 4 = 18$

$14 + 2 = 16$

$13 - 5 = 9$

$29 + 1 = 30$

$27 - 5 = 22$

2 Încercuiește obiectele indicate.

- cartea de pe masă
- florile din vază
- copilul care citește
- tabloul cu ramă dreptunghiulară

