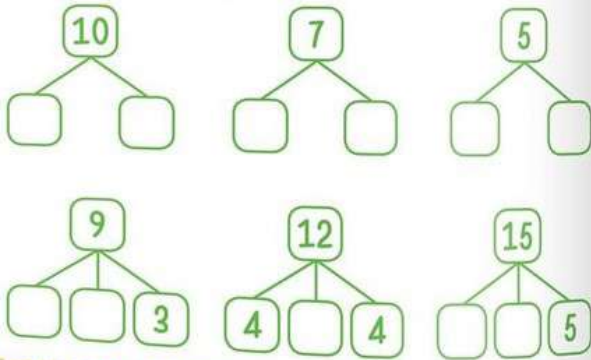


1. Scrie numerele crescător (de la mic la mare), apoi descrescător (de la mare la mic).

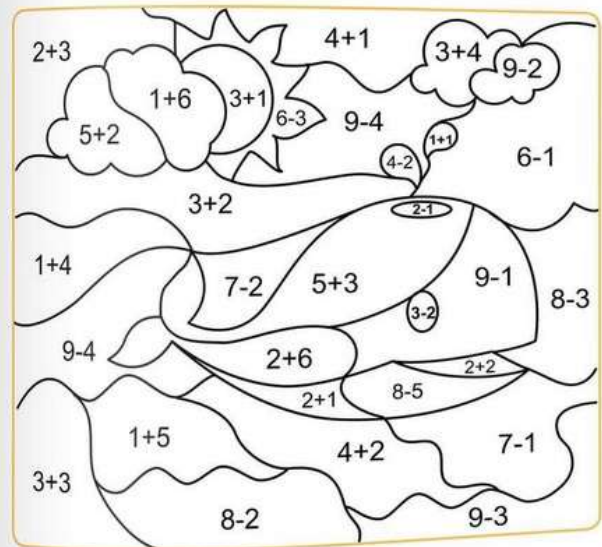
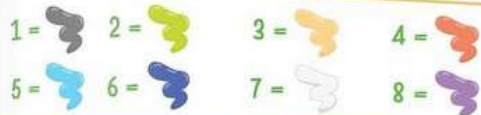
7, 8, 2, 0, 4, 9, 3, 6, 10, 15, 19, 36, 20, 1

15, 20, 6, 7, 10, 16, 2, 18, 24, 3, 8, 0, 19

2. Compune sau descompune numerele.



1. Rezolvă operațiile și colorează după indicații.



1. Calculează:

54 67 26 11 34 45 21 50

+33

□ □ □ □ □ □ □ □

2. Calculează:

89 49 99 76 37 85 79 35

-25

□ □ □ □ □ □ □ □

1. Desenează limbile ceasului, astfel încât să redea ora din chenar.



07:00



16:30



21:30

2. Unește ceasurile care arată aceeași oră.



10:00 13:00 05:30 15:00 07:30

1. Calculează, după model.

$$\begin{array}{r} 18 + \\ 12 \\ \hline 30 \end{array} \quad \begin{array}{r} 54 - \\ 23 \\ \hline 31 \end{array} \quad \begin{array}{r} 37 + \\ 51 \\ \hline \square \end{array} \quad \begin{array}{r} 87 - \\ 45 \\ \hline \square \end{array} \quad \begin{array}{r} 22 + \\ 23 \\ \hline \square \end{array}$$

$$\begin{array}{r} 18 + \\ 50 \\ \hline \square \end{array} \quad \begin{array}{r} 99 - \\ 81 \\ \hline \square \end{array} \quad \begin{array}{r} 64 + \\ 35 \\ \hline \square \end{array} \quad \begin{array}{r} 47 - \\ 16 \\ \hline \square \end{array} \quad \begin{array}{r} 59 + \\ 41 \\ \hline \square \end{array}$$

2. Completează căsuțele libere, pentru ca operațiile să fie corecte.

$$\begin{array}{l} 10 + \square = 61 \\ 66 - 52 = \square \\ \square - 16 = 14 \\ 54 + \square = 94 \\ 15 + 38 = \square \\ \square - 24 = 12 \\ \square + 13 = 84 \end{array} \quad \begin{array}{l} \square - 29 = 33 \\ 84 - 76 = \square \\ \square - 69 = 21 \\ 97 - \square = 53 \\ 57 + 40 = \square \\ \square - 56 = 29 \\ 69 + \square = 86 \end{array}$$

1. Completează tabelele.

a	55		5	15		60	24	
b	17	28	64		36		66	73
a + b		63		66	53	69		98

a	63		99	13		92	36	
b		21	53		10	30		61
a - b	47	22		6	84		27	14

a	63		33	31		88	90	
b	26	25		66	24		7	24
a + b		34	48		35	99		99

