

Cuprins

LOCURI DIN JURUL MEU	4	Activitățile economice din România	40
Orizontul. Linia orizontului.....	4	Evaluare semestrială.....	42
Punctele cardinale. Mijloace de orientare.....	6	ROMÂNIA – GEOGRAFIE REGIONALĂ	44
Orientarea în orizontul apropiat. Planul clasei.....	8	Munții Carpați.....	44
Orientarea în orizontul apropiat. Planul școlii.....	10	Carpații Orientali, Carpații Meridionali și Carpații Occidentali.....	46
Orientarea în orizontul apropiat. Planul locuinței.....	12	Dealurile și podișurile	48
Orientarea în orizontul apropiat. Planul cartierului și al localității.....	14	Câmpiile.....	50
Hărți ale orizontului local.....	16	Delta Dunării.....	52
Orizontul local. Relieful, apele și vegetația	18	Caracteristicile geografice ale regiunii mele	54
Orizontul local. Populație, așezări, activități ale oamenilor	20	Organizarea administrativă a României. București – capitala țării mele	56
De la localitatea natală la regiune și țară.....	22	Județul meu, localitatea mea.....	58
Modificări din jurul meu. Repere de timp.....	24	ROMÂNIA ÎN EUROPA ȘI ÎN LUME	60
ROMÂNIA – GEOGRAFIE GENERALĂ	26	Vecinii țării mele.....	60
Vecinii și granițele României.....	26	Europa – un continent al planetei.....	62
Relieful României - caracteristici generale.....	28	Uniunea Europeană	64
Clima României.....	30	Terra – Planeta noastră	66
Apele României. Râurile și Dunărea.....	32	Planiglobul – imaginea Terrei. Continente și oceane	68
Apele României. Lacurile și Marea Neagră	34	Evaluare semestrială.....	70
Vegetația, animalele și solurile din România	36	RĂSPUNSURI	72
Locuitorii și așezările omenești.....	38		

ROMÂNIA – GEOGRAFIE REGIONALĂ

Munții Carpați

1. Subliniază cuvintele care completează corect propozițiile din textul de mai jos:

În țara noastră, Munții Carpați ocupă o poziție **centrală/sudică**. Carpații sunt munți de înălțime **mijlocie/mare**. Moldoveanu, cel mai înalt vârf din țara noastră, măsoară **1 544/2 544 m**. Cea mai mare parte a Munților Carpați s-a format prin încrețire/erupții vulcanice. Munții Carpați sunt alcătuiți **din roci variate/doar din roci sedimentare**. Traversarea munților se face de-a lungul **vârfurilor/văilor**. Munții Carpați sunt alcătuiți din trei ramuri principale, numite în funcție de poziția lor față de **Podișul Moldovei/Depresiunea Transilvaniei**.

2. Completează harta alăturată cu:

- numele unităților de relief vecine Munților Carpați;
- numele celor trei ramuri carpatice;
- denumirile principalelor râuri care izvorăsc din acești munți.

3. Identifică și corectează greșelile din afirmațiile următoare, după model.

Munții Carpați prezintă pante *domoale* și înălțimi *mici*.

Munții Carpați prezintă pante *abrupte* și înălțimi *mari*.


- La munte, temperaturile sunt ridicate și precipitațiile cad în cantități reduse.

- Vegetația este de stepă și silvostepă.



- Pe culmile înalte trăiesc mulți oameni.
- În Munții Carpați sunt multe orașe.
- Satele sunt mari și adunate.
- Locuitorii cultivă mai ales cereale, floarea-soarelui și viță-de-vie.

4. Caută, folosind Internetul, imagini cu Munții Carpați și realizează un colaj pe spațiul de mai jos.



Carpații Orientali, Carpații Meridionali și Carpații Occidentali

1. Completează spațiile libere cu răspunsurile corecte.

Carpații Orientali sunt formați din șiruri paralele de munți. Șirul vestic s-a format prin _____, iar șirurile central și estic prin _____. Cea mai mare înălțime este de _____ m și se află în Munții _____.

Carpații Orientali sunt împărțiți în trei grupe numite: _____, _____ și _____.

Carpații Meridionali au cele mai _____ altitudini din țara noastră. Cea mai mare înălțime este de _____ m și se află în Munții _____.

Carpații Meridionali sunt împărțiți în patru grupe numite: _____, _____, _____ și _____.

Carpații Occidentali s-au format prin _____. Cea mai mare înălțime este de _____ m și se află în Munții _____.

Carpații Occidentali sunt împărțiți în trei grupe numite: _____, _____ și _____.

2. Ordonează de la vest spre est următoarele grupe montane:

Grupa Parâng, Munții Banatului, Grupa Sudică a Carpaților Orientali, Grupa Bucegi, Grupa Retezat.

3. Completează graficul alăturat, reprezentând prin coloane cele mai înalte vârfuri din cele trei ramuri carpatice.



4. Scrie, în dreptul celor trei diviziuni carpatice, numele obiectivelor turistice din imaginile de mai jos, ținând cont de poziția geografică a acestora.

- Carpații Meridionali: _____ ;
- Carpații Occidentali: _____ ;
- Carpații Orientali: _____ .



Cheile Bicazului



Sfinxul



Peștera Scărișoara



Lacul Vidraru



Defileul Dunării



Cascada Cailor

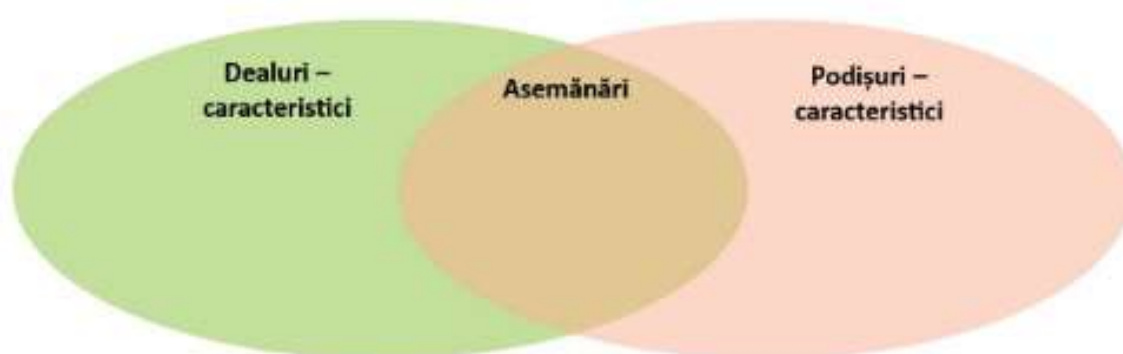
Dealurile și podișurile

1. a) Scrie, pe harta de mai jos, denumirile dealurilor și podișurilor României.
b) Caracterizează, la alegere, Podișul Moldovei sau Podișul Getic, referindu-te la: poziția în cadrul țării, unitățile de relief cu care se învecinează, râurile, resursele naturale, ocupațiile locuitorilor.



2. Scrie **A**, dacă afirmația este adevărată sau **F**, dacă afirmația este falsă.
 - Depresiunea Transilvaniei este traversată de Mureș. (...)
 - Depresiunea Transilvaniei este un podiș. (...)
 - Depresiunea Transilvaniei se învecinează cu Munții Banatului. (...)
 - Depresiunea Transilvaniei se află în sudul țării. (...)

3. Stabilește asemănări și deosebiri între dealuri și podișuri, completând diagrama de mai jos:



4. Subliniază, cu o linie, enunțurile care se referă la Subcarpați și cu două linii pe cele care se referă la Dealurile de Vest.

- Înconjoară spre exterior Carpații Orientali și Carpații Meridionali.
- Se învecinează spre est cu Carpații Occidentali.
- Sunt alcătuiți din dealuri înalte separate prin depresiuni.
- Au culmi domoale, puțin înalte, înclinate lin spre Câmpia de Vest.
- S-au format, ca și munții pe care-i înconjoară, prin încrețirea stratelor de roci.
- S-au format prin depunerea aluviunilor (nisipuri și pietrișuri) aduse de râuri din munți.

5. Evidențiază, prin culori diferite, numele orașelor situate în Podișul Moldovei, respectiv în Depresiunea Transilvaniei.

Bacău

Botoșani

Cluj-Napoca

Iași

Sibiu

Târgu Mureș

Câmpiile

1. a) Scrie, pe harta alăturată, unitățile de câmpie ale României, orașele și principalele râuri care le traversează.
b) Găsește patru deosebiri între câmpii și dealuri din punctul de vedere al: înălțimii, aspectului reliefului, climei și vegetației naturale.



- c) Evidențiază, prin culori diferite, numele orașelor situate în Câmpia Română, respectiv în Câmpia de Vest.

Arad

Timișoara

Galați

Pitești

Buzău

București

Craiova

Brăila

Ploiești

Oradea

2. Alege enunțurile care se referă la câmpii și compune cu acestea un scurt text.

Clima este aspră, cu ierni geroase cu ninsori bogate și veri răcoroase. Cele mai importante resurse sunt apele rezezi ale râurilor, pădurile întinse de fagi și conifere, pășunile și în subsol: cărbunii, metalele, apele minerale. Cele mai importante resurse sunt: solurile foarte fertile, zăcămintele de petrol și gaze naturale. Datorită condițiilor favorabile, sunt cele mai populate forme de relief. Satele sunt mari, adunate, iar orașele, importante centre industriale. În ciuda climei mai reci și a solurilor puțin fertile, locuitorii se ocupă cu agricultura: creșterea vacilor, a oilor și cultivarea cartofilor, sfeclă de zahăr, pomilor fructiferi. Râurile au văi largi cu lunci întinse. Sunt principalele regiuni agricole ale României, fiind cultivate mai ales cu cereale: grâu, porumb, dar și cu floarea soarelui, sfeclă de zahăr, legume etc.

3. Bifează, după model, câmpia căreia i se potrivește afirmația din tabel.

	Câmpia Română	Câmpia de Vest
Este cea mai mare câmpie din țara noastră.	x	
Se întinde de-a lungul Dunării.		
Este o câmpie lungă și îngustă.		
Este o regiune secetoasă.		
Se învecinează cu Podișul Getic.		
Cel mai mare oraș este Timișoara.		

4. Alege varianta corectă de răspuns:


- Cel mai mare râu din Câmpia Română este:
a) Argeș; b) Olt; c) Prahova.
- Cel mai mare râu din Câmpia de Vest este:
a) Crișul Repede; b) Mureș; c) Someș.
- În Câmpia Română, secetele sunt frecvente în:
a) est; b) nord; c) vest.
- Câmpia de Vest se învecinează spre est cu:
a) Dealurile de Vest; b) Serbia; c) Ungaria.

Delta Dunării

1. Completează spațiile libere, astfel încât enunțurile de mai jos să fie corecte.

Delta Dunării se află în partea de _____ a țării. Se învecinează cu _____, în nord, cu _____, în est și sud și cu _____, în vest. Delta Dunării este o unitate de relief tânără, care s-a format din _____ depuse de Dunăre la vărsarea în Marea Neagră. Cele trei brațe ale Dunării în Deltă sunt: _____ și _____. Suprafețele de uscat din deltă se numesc _____.

2. Imaginea de mai jos reprezintă Delta Dunării văzută din satelit. Transformă această fotografie într-o hartă, desenând cu albastru apele, cu verde vegetația și cu galben suprafețele de uscat.



3. Completează spațiile libere cu exemple de plante și animale din Delta Dunării.

a) plante:

_____;

b) păsări:

_____;

c) pești:

_____;

d) mamifere:

_____.

4. Explică de ce Delta Dunării a fost declarată rezervație a biosferei.

_____.

5. Ce activități se pot practica în Delta Dunării?

_____.

6. De ce Delta Dunării este slab populată?

_____.

7. **Activitate pe grupe.** Realizați un afiș în care să prezentați pitorescul și importanța turistică a Deltei Dunării. Țineți seama de elementele principale ale unui afiș.

Caracteristicile geografice ale regiunii mele

1. Observă imaginile de mai jos și scrie cifra corespunzătoare imaginii care prezintă:

- forma de relief specifică regiunii în care trăiești: _____;
- vegetația specifică regiunii tale: _____;
- tipul de așezare în care trăiești: _____.



2. Subliniază termenii care se potrivesc cel mai bine pentru a caracteriza populația și economia regiunii tale.

În regiunea mea, populația este numeroasă/mai puțin numeroasă. Fiind o regiune cu relief de câmpie/deal/munte, satele sunt adunate/răsfirate/risipite. Principala bogăție a regiunii o formează terenurile agricole/pădurile/resursele de subsol. Cele mai importante produse ale regiunii sunt cele agricole/industriale. Localitatea mea este traversată de o șosea/cale ferată.

3. Compune un scurt text în care să prezinți caracteristicile naturale ale regiunii din jurul orizontului tău local, folosind termenii: *forme de relief, unitate de relief, climă, temperaturi medii anuale, precipitații, vânturi, lacuri, râuri, vegetație, animale, soluri.*

4. Realizează un colaj cu fotografii reprezentative pentru orizontul local și regiunea ta.

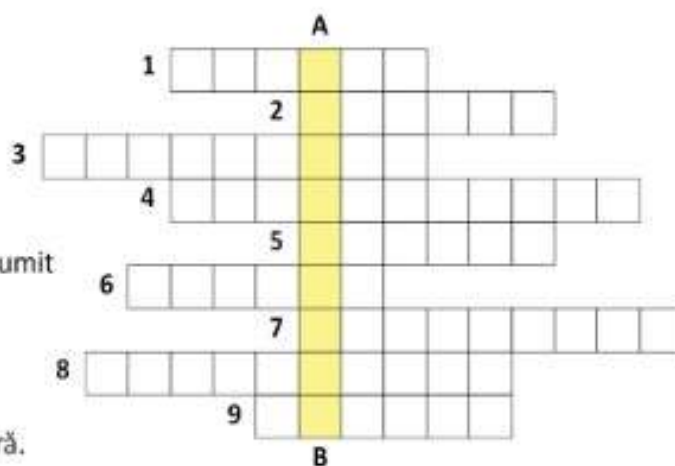
Organizarea administrativă a României. București – capitala țării mele

1. Scrie **A**, dacă afirmația este adevărată sau **F**, dacă afirmația este falsă:

- Comuna este formată dintr-unul sau mai multe sate. (...)
- Cea mai mică unitate administrativă este județul. (...)
- România este împărțită în 50 de județe. (...)
- În România sunt 41 de orașe-reședință de județ la care se adaugă municipiul București. (...)
- Comuna este o unitate administrativă superioară orașului. (...)

2. Completează rebusul alăturat.

1. Este ales să conducă un oraș.
2. Populația care trăiește la oraș.
3. „Capitala” unui județ.
4. Ocupație de bază a locuitorilor de la sate.
5. Formă de organizare administrativă ce cuprinde un anumit teritoriu și un număr de sate.
6. Forma de relief cea mai bine populată.
7. Numărul total al locuitorilor unei țări sau....
8. Grupuri umane de altă etnie decât populația majoritară.
9. Populația care trăiește la sate.



A – B. Oraș cu număr mai mare de locuitori, cu o organizare internă superioară altor orașe din județ, cu importanță economică mai mare.

3. Compară harta fizică și harta administrativă a României și rezolvă următoarele cerințe:

a) Scrie câte trei județe în care forma de relief este predominant de:

– câmpie: _____ ;

– deal-podiu: _____ ;

– munte: _____ .

b) Scrie județul/județele în care se află:

– Delta Dunării: _____ ;

– Munții Făgăraș: _____ ;

– Munții Banatului: _____ .

4. Realizează, pe spațiul dat, un colaj cu fotografii reprezentative pentru orașul București.



Județul meu, localitatea mea

1. Numește și colorează pe harta alăturată județul tău și județele vecine. Scrie pe hartă denumirile reședințelor acestor județe.
2. Ți dorești să scrii pentru revista școlii tale un articol de prezentare a județului în care trăiești. Redactorul-șef al revistei îți cere ca articolul să aibă cel puțin 15 rânduri, un titlu interesant, să facă referire la relieful, clima, apele, vegetația, fauna, populația și principalele orașe ale județului. De asemenea, articolul trebuie însoțit de o hartă a județului și de imagini reprezentative. Spor la lucru!



