

## TEMA 1

1. Citește și scrie cu litere numerele:

7007 \_\_\_\_\_; 85603 \_\_\_\_\_  
807077 \_\_\_\_\_; 101011 \_\_\_\_\_  
606606 \_\_\_\_\_; 999088 \_\_\_\_\_

2. Scrie:

a) cel mai mare număr natural impar de 4 cifre:

b) cel mai mare număr natural par de 5 cifre:

c) cel mai mic număr natural scris cu 5 cifre diferite:

3. Este corectă afirmația ursulețului?



Cifra 312  
este mai mică  
decât cifra 313

● Colorează caseta ce conține răspunsul corect.




DA

NU

4. Scrie 7 numere impare consecutive, al doilea fiind 570413.

\_\_\_\_\_ ; 570413 ; \_\_\_\_\_ ; \_\_\_\_\_ ; \_\_\_\_\_ ; \_\_\_\_\_ ; \_\_\_\_\_

5. Alege balonul potrivit pentru fiecare ursuleț, apoi colorează la fel perechile:



### Tema nr. 3

1. Află suma numerelor:

a) ce aparțin mulțimii A:

\_\_\_\_\_

b) ce aparțin mulțimii B:

\_\_\_\_\_

c) ce aparțin numai mulțimii A:

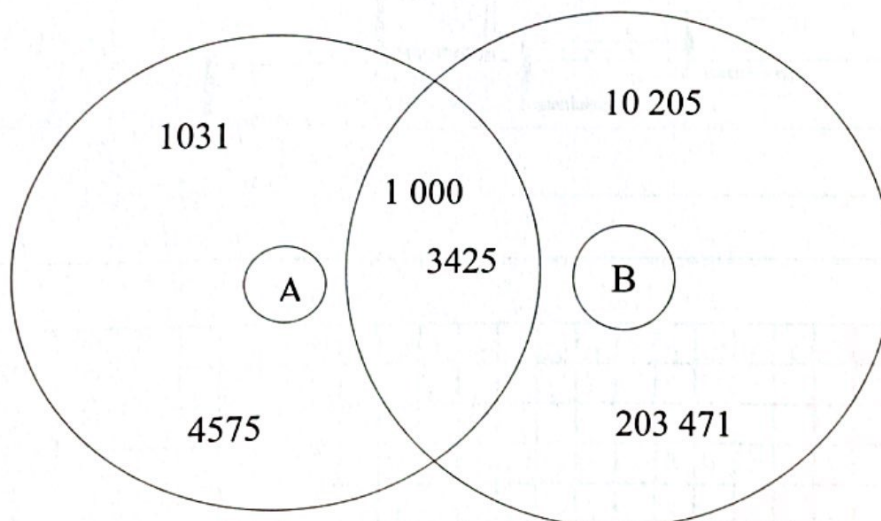
\_\_\_\_\_

d) ce aparțin numai mulțimii B:

\_\_\_\_\_

e) ce aparțin și mulțimii A și mulțimii B:

\_\_\_\_\_



2. Compară sumele următoare completând caseta cu semnul de relație potrivit:

$$75231 + 83214 \quad \square \quad 101753 + 207903$$

$$\text{_____} \quad \square \quad \text{_____}$$

### Tema nr. 4

1. Completează cu semnul potrivit pentru ca rezultatele să fie corecte:

$752\ 175$	<input type="checkbox"/>	$109\ 835$	<input type="checkbox"/>	$334\ 711$	<input type="checkbox"/>	$645\ 009$	<input type="checkbox"/>
$834\ 866$		$73\ 946$		$668\ 922$		$521\ 994$	
$1\ 587\ 041$		$35\ 889$		$1\ 003\ 633$		$123\ 015$	

2. Se dau patru numere:

$$A = 1043; \quad B = 958; \quad C = 849; \quad D = 6$$

Calculează:

$$A - D = \underline{\hspace{15cm}}$$

$$C + B = \underline{\hspace{15cm}}$$

$$A + B + C + D = \underline{\hspace{15cm}}$$

$$(A + C) - B = \underline{\hspace{15cm}}$$

$$(B + C) - A = \underline{\hspace{15cm}}$$

$$(A + B + C + D) - (A + B + C) = \underline{\hspace{15cm}}$$

$$(A + B) - (C + D) = \underline{\hspace{15cm}}$$

3. Scrie cu cifre romane toate numerele întâlnite în textul de mai jos:

Bunicii mei au trecut de 70 de ani.

Bunicul este născut în anul 1932, iar bunica în 1934.

Ei locuiesc la țară, la 35 km de oraș, într-o casă veche de 80 de ani pe care au renovat-o în anul 1998. Au 4 nepoți: 2 băieți și 2 fete.

În fiecare vară nepoții petrec cel puțin 26 de zile de vacanță la țară.




## Tema nr. 5

1. Scrie cu cifre romane:

a) Anul nașterii tale \_\_\_\_\_

b) Anii între care a domnit Mihai Viteazul \_\_\_\_\_

c) Anul în care s-a născut Mihai Eminescu \_\_\_\_\_

d) Vârsta tatălui tău \_\_\_\_\_

e) Numărul pe care-l poartă mama ta la pantofi \_\_\_\_\_

2. Află numărul necunoscut:

$$a + 7531 = 9476$$

$$b - 9436 = 20\ 014$$

$$a =$$

$$b =$$

$$a =$$

$$b =$$

\_\_\_\_\_

\_\_\_\_\_

$$(1856 + 4531) + c = 8763$$

$$(8761 + 10\ 041) - d = 3843$$

$$c =$$

$$d =$$

$$c =$$

$$d =$$

\_\_\_\_\_

\_\_\_\_\_

3. Calculează suma tuturor numerelor naturale de forma  $\overline{a\ a\ a}$ .

