





















NUMĂR
PÂNĂ LA 10

Câte sunt de fiecare?
Numără și scrie pe **abțibildurile**.



Încercă să **numărai**
și **obiecte** **indicate**.

NUMĂR
PÂNĂ LA 10

MAI PUȚIN DE 2	
MAI PUȚIN DE 3	
MAI PUȚIN DE 5	
MAI PUȚIN DE 7	
MAI PUȚIN DE 9	
MAI PUȚIN DE 10	



MAI MULTE, TOT
ATĂTEA, MAI PUȚINE

Numără obiectele din fiecare grup.

apoi scrie **semnul** corespunzător:

> mai multe
= tot atâtea
< mai puține



MAI MULTE, TOT
ATĂTEA, MAI PUȚINE

Numără obiectele din fiecare grup.

apoi scrie **semnul** corespunzător:

> mai multe
= tot atâtea
< mai puține



Completează:

- | | | |
|--------------------------|--------------------------|----------------------------|
| 2 <input type="text"/> 1 | 4 <input type="text"/> 2 | 6 <input type="text"/> 7 |
| 3 <input type="text"/> 1 | 3 <input type="text"/> 4 | 7 <input type="text"/> 7 |
| 1 <input type="text"/> 4 | 4 <input type="text"/> 5 | 1 <input type="text"/> 8 |
| 1 <input type="text"/> 2 | 5 <input type="text"/> 1 | 8 <input type="text"/> 5 |
| 3 <input type="text"/> 3 | 2 <input type="text"/> 5 | 3 <input type="text"/> 9 |
| 2 <input type="text"/> 4 | 5 <input type="text"/> 4 | 9 <input type="text"/> 10 |
| 4 <input type="text"/> 1 | 4 <input type="text"/> 3 | 10 <input type="text"/> 2 |
| 3 <input type="text"/> 3 | 3 <input type="text"/> 3 | 10 <input type="text"/> 10 |
| 4 <input type="text"/> 4 | 5 <input type="text"/> 4 | 3 <input type="text"/> 10 |

