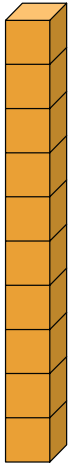
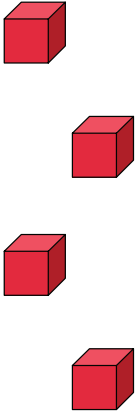
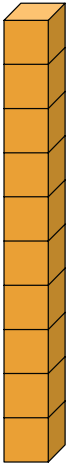
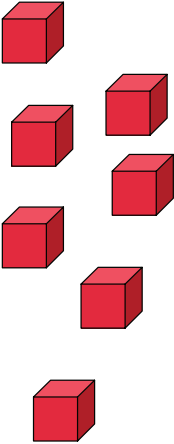
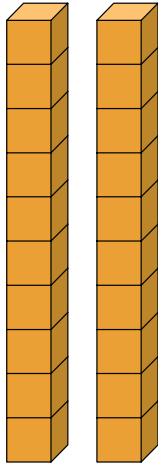




# Zeci și unități

Numără cuburile și scrie câte zeci și unități sunt.

zeci	unități	zeci	unități	zeci	unități
					
1	4	1			

14

Desenează zecile și unitățile indicate prin numere.

zeci	unități	zeci	unități	zeci	unități
1	9	1	5		3

19

# Scrierea numerelor

Scrie cu cifre numerele date.

o sută cincizeci și patru .....

șapte sute cincizeci și șase .....

cinci sute douăzeci și patru .....

patru sute cincizeci .....

opt sute șaiszeci și cinci .....

șase sute patruzeci și trei .....

trei sute treizeci și șapte .....

o sută douăzeci și nouă .....

două sute șaiszeci și cinci .....

nouă sute treizeci și doi .....

154

865

932

524

337

756

129

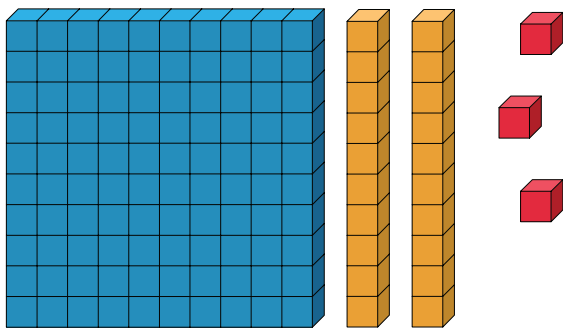
450

265

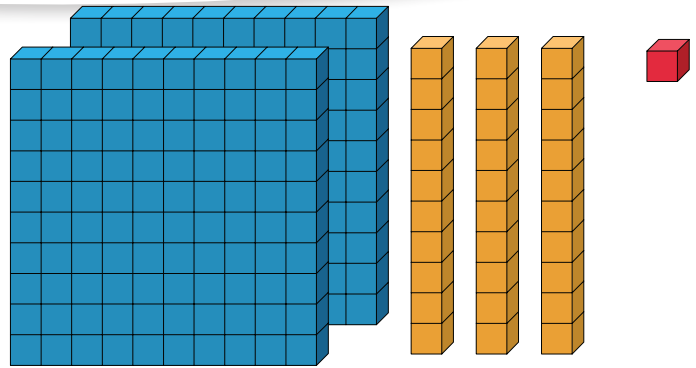
643

# Adunări cu sute, zeci și unități

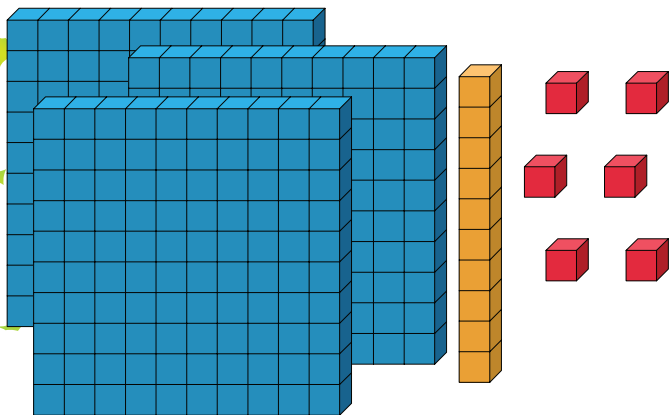
Numără și scrie rezultatul obținut.



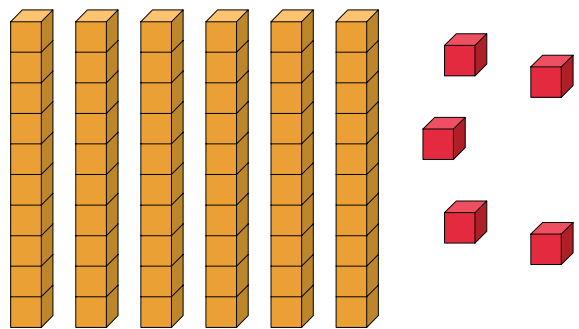
Câte sunt? .....



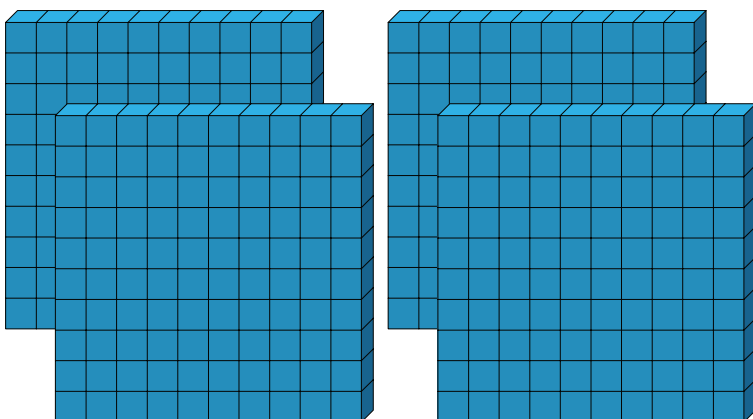
Câte sunt? .....



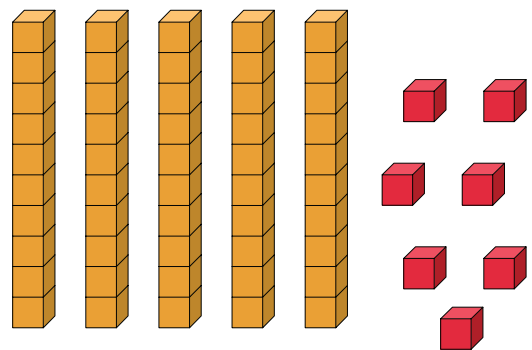
Câte sunt? .....



Câte sunt? .....




Câte sunt? .....



# Adunare sau scădere

Privește numerele cu atenție. Apoi scrie semnul +  
sau semnul – pentru a face corecte operațiile.

50  43 = 93  66  26 = 40

11  40 = 51  28  21 = 7

71  40 = 31  80  40 = 40

12  43 = 55  43  21 = 22

49  39 = 10  89  60 = 29



# Numără din 5 în 5

Numără din 5 în 5. Scrie numerele care lipsesc.



5      10      .....      .....      .....

75      80      .....      .....      .....

40      45      .....      .....      .....

105      110      .....      .....      .....

410      .....      .....      .....      .....

365      .....      .....      .....      .....

730      .....      .....      .....      .....

255      .....      .....      .....      .....

# Numără din 10 în 10

Numără din 10 în 10. Alege un număr din lista de mai jos și scrie-l în locul potrivit.

240

260

280

515

525

770

810

165

175

205

220

240

250

545

250

780

210

800

505

195

535

185

790

270

230